



Instituto Bilingüe Carlos Dickens
"Siempre fieles a la verdad"

TEMA: USO DEL RELOJ

Instrucciones coloca las siguientes palabras en el lugar correcto.

Aguja pequeña: indica las

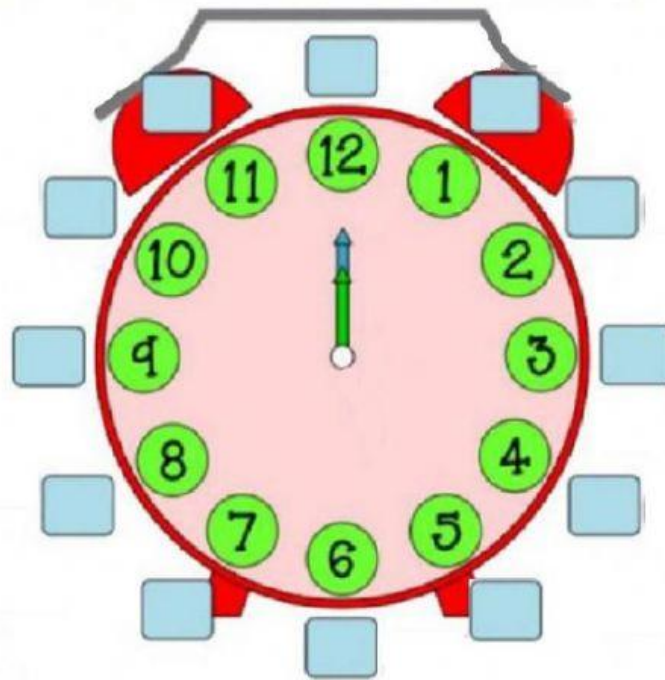
 Aguja grande: indica los

1 hora =
 media hora =
 un cuarto de hora =
 3 cuartos de hora =

Marca la hora correcta que indica cada reloj:



Escribe los minutos que corresponden en cada uno de los cuadros:



Marca la hora que corresponde:

1. *Observa con atención. ¿Qué hora es? Marca la opción correcta.*



Las 8 en punto.

Las 8 y media.

Las 8 y cuarto.



Las 6 y cuarto.

Las 6 en punto.

Las 6 y media.



Las 2 y media.

Las 2 y cuarto.

Las 6 y cuarto.



Las 3 y cuarto.

Las 12 y cuarto

Las 3 en punto.



Las 2 menos cuarto.

Las 9 y cuarto.

Las 2 en punto.



Las 6 en punto.

Las 12 en punto.

Las 12 y media.



Las 12 y media.

Las 7 en punto.

Las 7 y media.



Las 7 menos cuarto.

Las 7 y media.

Las 7 en punto.



Las 12 y media.

Las 10 y media.

Las 11 y media.

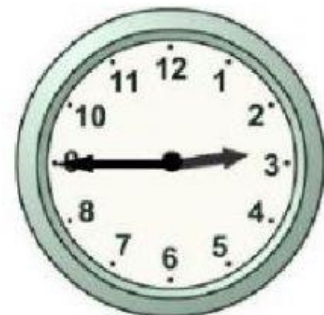
A cada reloj aumentale (súmale) 10 min y marca la hora en el rectángulo:



:



:

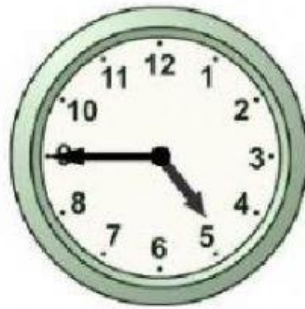


:

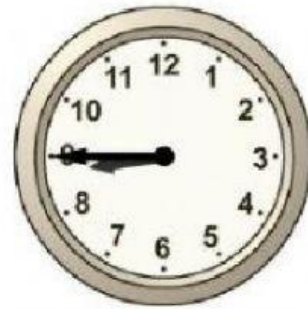
A cada reloj aumentale (súmale) 15 min y marca la hora en el rectángulo:



:

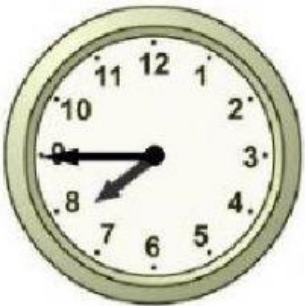


:



:

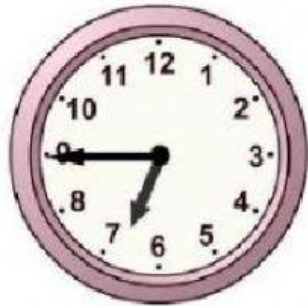
A cada reloj réstale 15 min y marca la hora en el rectángulo:



:



:



: