













NOMBRE

Escribe dentro de cada cuadro la hora y los minutos que indican en los relojes analógicos, recuerda que la aguja pequeña indica las horas y la aguja grande indican los minutos. Exprésalo en forma de 12 horas en los huecos del reloj digital, pon mucha atención y fíjate bien.

 1 a. ____ : ____	 1 b. ____ : ____	 1 c. ____ : ____	 1 d. ____ : ____
 2 a. ____ : ____	 2 b. ____ : ____	 2 c. ____ : ____	 2 d. ____ : ____
 3 a. ____ : ____	 3 b. ____ : ____	 3 c. ____ : ____	 3 d. ____ : ____