

## EVALUACIÓN DE CIENCIA Y TECNOLOGÍA

### VII UNIDAD

Apellidos y nombres: \_\_\_\_\_

Tercer Grado

FECHA: 16 de noviembre del 2021

- I. Observa el ecosistema y escribe los seres bióticos y abióticos que presenta.



SERES BIÓTICOS


SERES ABIÓTICOS

- II. Completa la información.

- Un \_\_\_\_\_ está formado por seres \_\_\_\_\_
- y seres \_\_\_\_\_ que habitan en él.
- El conjunto de \_\_\_\_\_ se les denomina flora.
- El conjunto de \_\_\_\_\_ se les denomina fauna.

- III. ¿A qué ecosistema pertenece cada fotografía? Escribe dos características de cada una.





IV. Relaciona cada especie con su hábitat.

ovejas



selva



guacamayos



Piura



pejerrey



sierra



zorro costeño



mar



llama



Puno



V. Escribe dos ejemplos de cadena alimenticia: 1 acuática y 1 terrestre.

a) Acuática: \_\_\_\_\_  
\_\_\_\_\_

b) Terrestre: \_\_\_\_\_  
\_\_\_\_\_

VI. Lee y une según corresponda

Se encargan de descomponer los restos de otros eslabones.

Fabrican su propio alimento a través de la energía solar.

Se alimentan de plantas

Se alimentan de otros animales, (son carnívoros).

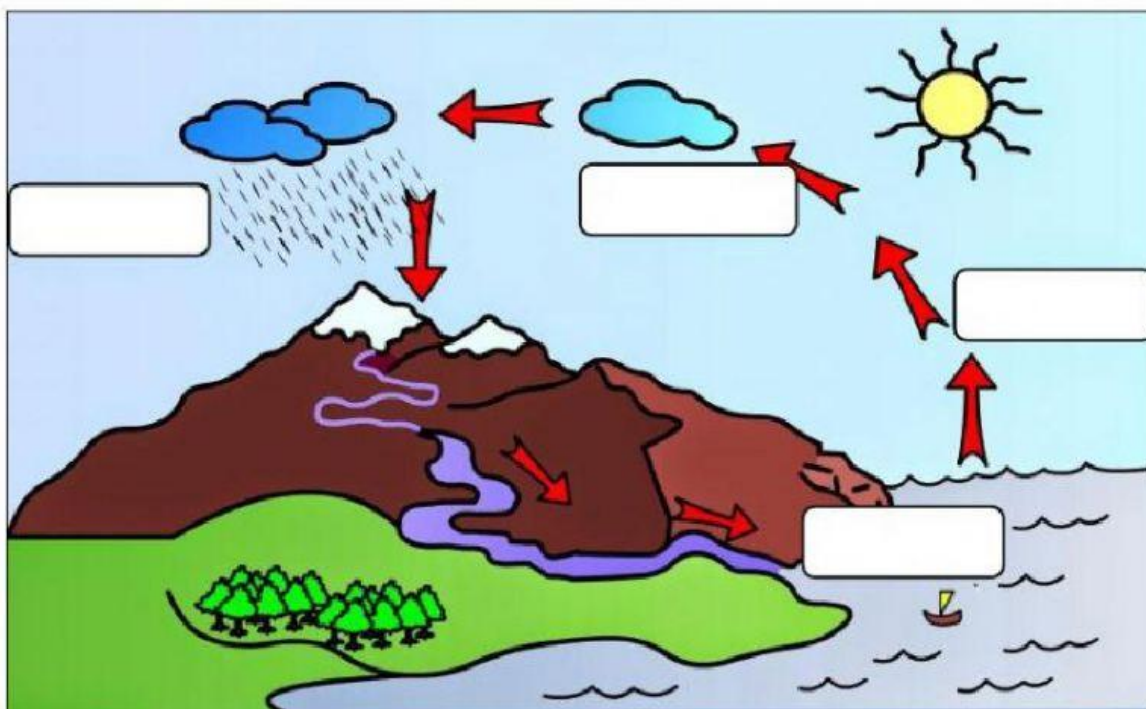
Consumidor secundario

Descomponedores

Consumidores primarios

Productores

VII. Completa el ciclo del agua con los nombres correspondientes





VIII. Completa el siguiente texto sobre el ciclo del agua.

El \_\_\_\_\_ calienta el agua de los océanos \_\_\_\_\_ y lagos.

El agua se \_\_\_\_\_ en forma de vapor de agua. El vapor de agua asciende, y al enfriarse, se \_\_\_\_\_, formando pequeñas gotas de \_\_\_\_\_. Estas pequeñas gotas de agua se van juntando hasta formar las \_\_\_\_\_.

Cuando las nubes son muy pesadas, se produce la \_\_\_\_\_, el agua cae en forma de lluvia, \_\_\_\_\_ o hielo.

El agua vuelve a los océanos, \_\_\_\_\_ y lagos.

X. Contesta las preguntas.

a) ¿Cómo esta formada el agua?

.....  
.....

b) ¿Dónde encontramos agua?

.....  
.....

c) ¿Para que utilizas el agua?

.....  
.....

d) ¿Cuáles son los estados del agua?

.....

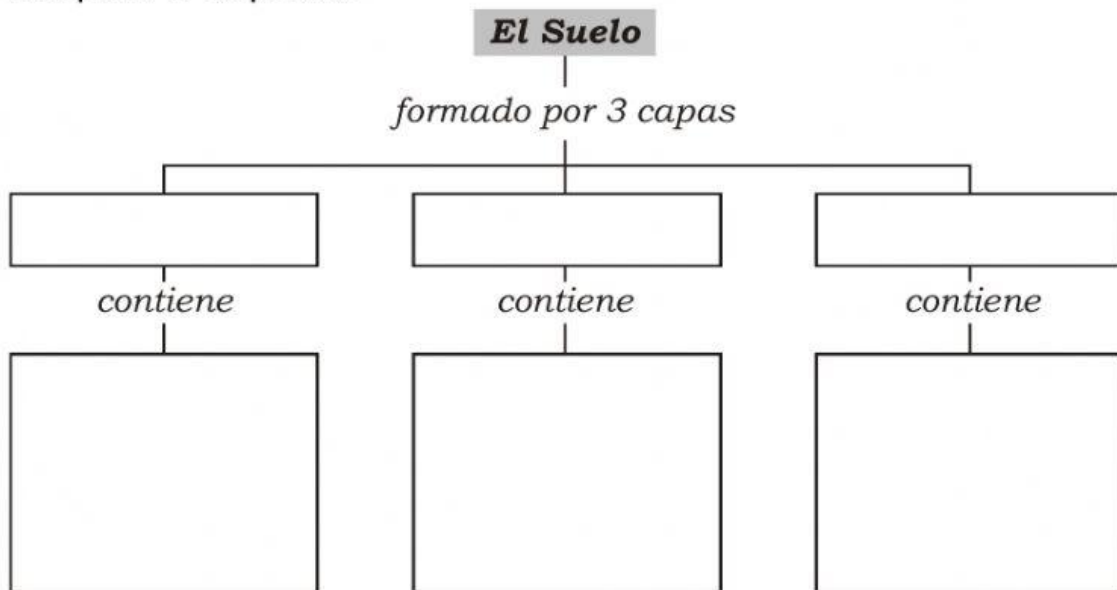
e) ¿Qué harías para evitar la contaminación del agua?

.....  
.....  
.....





XI. Completa el esquema.



XII. Contesta.

a. Suelo Fértil:

.....

.....

b. Suelo Pantanoso:

.....

.....

c. Suelo Desértico:

.....

.....

XIII. Menciona algunas medidas que deben tomarse en cuenta para evitar la contaminación del suelo.

.....

.....

.....