

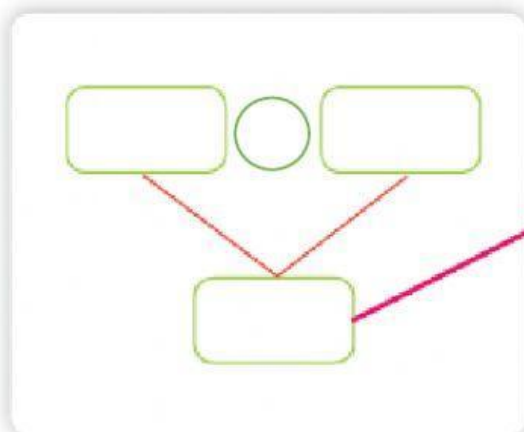
Resolvemos problemas de dos etapas

Lee las situaciones, completa el esquema propuesto y responde.

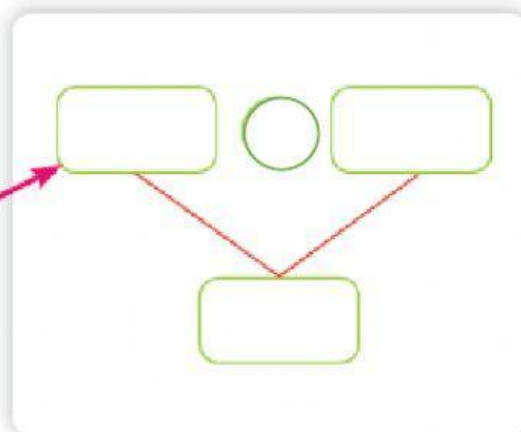


En el kiosco hay 39 paquetes de galleta. Hoy en la mañana vendieron 20 paquetes y en la tarde 12. ¿Cuántos paquetes de galleta quedaron sin vender?

Primera etapa

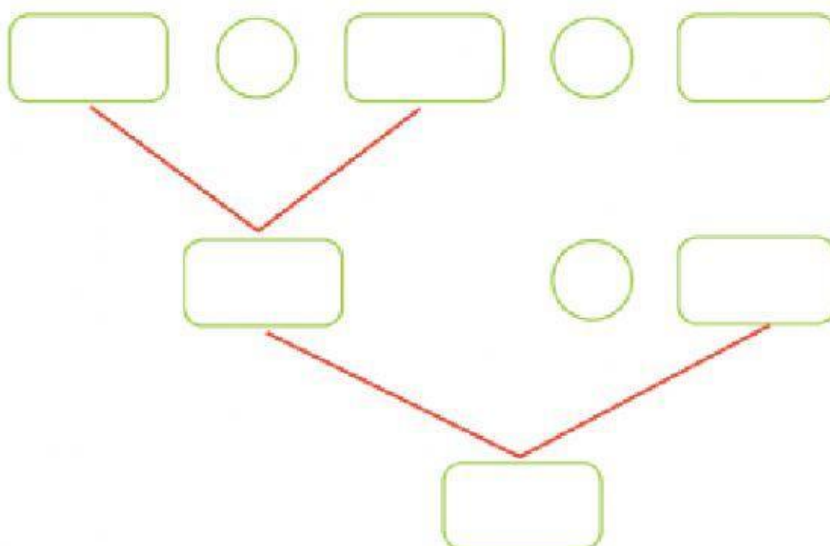


Segunda etapa



Quedaron sin vender _____ paquetes de galleta.

Elena fue temprano a comprar fruta para su juguería, 27 kilos de naranjas y 12 de papaya, en la tarde regresó para comprar 10 kilos de fresa. ¿Cuántos kilos de fruta compró en total Elena?

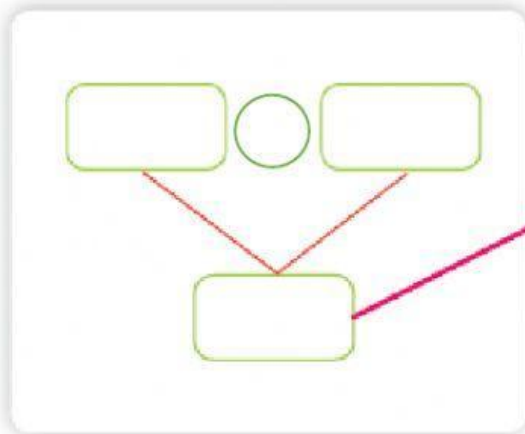


Elena compró _____ kilos de fruta en total.

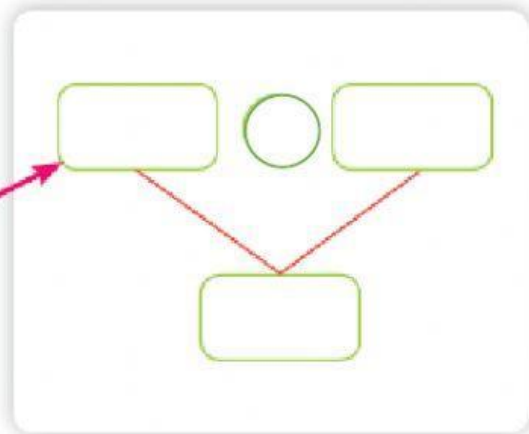


Un artesano de la región Áncash vendió 8 monederos de cuero, 9 monederos tejidos y 3 guantes de alpaca. ¿Cuántos monederos vendió? ¿Cuántas artesanías vendió en total?

Primera etapa



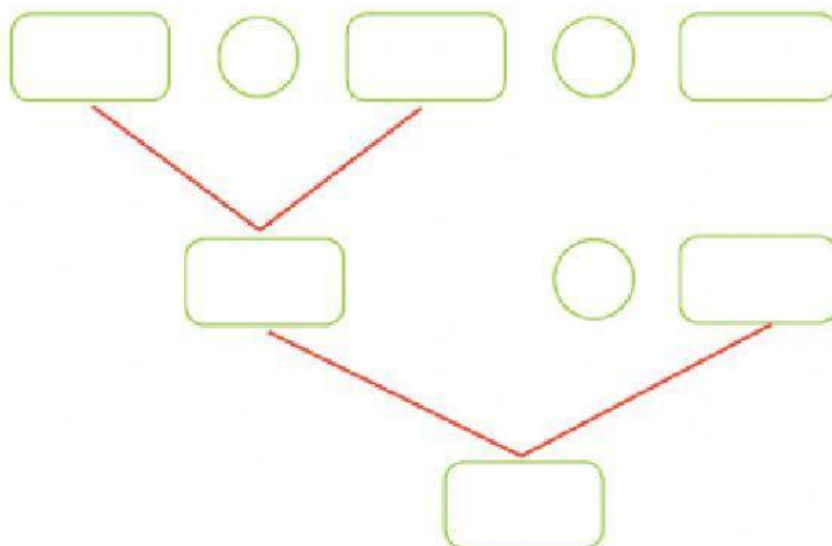
Segunda etapa



Vendió _____ monederos.

Vendió _____ artesanías en total.

En un autobús viajan 49 pasajeros. En la primera parada bajan 27 personas y suben 8. ¿Cuántos pasajeros viajan ahora?



Ahora viajan _____ pasajeros.