



**UNIDAD EDUCATIVA PARTICULAR
"16 DE JUNIO"**

CALIFICACIÓN
OBTENIDA.

10

EVALUACIÓN SUMATIVA DE LA ASIGNATURA /MODULO: CIENCIAS SOCIALES

CURSO: SÉPTIMO	PARALELO: A	NIVEL: MEDIA	FECHA DE ELABORACIÓN DEL INSTRUMENTO: 01/11/2021
II QUIMESTRE I PARCIAL		FECHA DE APLICACIÓN:	
APELLIDOS Y NOMBRES DEL ALUMNO/A:			
APELLIDOS Y NOMBRES DEL DOCENTE:			LIC. LUNA VERGARA DORIS CRISTINA

DESTREZA A EVALUARSE:	CE.CS.3.11.	CRITERIO DE EVALUACION	E.CS.3.11.
INDICADORES DE EVALUACIÓN	<p>I.CS.3.11.1. Analiza las ventajas y desventajas de la organización territorial del país, las características de sus gobiernos (provinciales, municipales y parroquiales) y sus formas de participación popular, reconociendo las concordancias o inconsistencias entre la división natural y territorial existente en el país. (J.1., I.2.)</p> <p>I.CS.3.11.2. Analiza los principales rasgos físicos de las provin+cias (relieves, hidrografía, climas, áreas cultivables, pisos ecológicos, etc.), mediante ejercicios gráficos, el uso de Internet y las redes sociales, destacando sus semejanzas y diferencias. (J.1., I.2.)</p>		

ITEM :	Reactivos de SELECCIONAR
1. ORDEN DE LA PREGUNTA: LEER CON ATENCIÓN Y SELECCIONAR LA OPCIÓN CORRECTA	

¿Cuáles son las provincias que conforman la costa norte?

1 PUNTO

1. Manabí
2. Carchi
3. Pichincha
4. Esmeraldas
5. Santo Domingo de los Tsáchilas

- a) 1, 2, 3
- b) 1, 3, 5
- c) 2, 3, 4
- d) 1, 4, 5

ITEM:

Reactivos de ARRASTRAR

2. **ORDEN DE LA PREGUNTA:** ARRASTRAR Y UBICAR DONDE CORRESPONDE

4 PUNTOS

EL GUABO

MACHALA

PASAJE

CHILLA

SANTA ROSA

ATAHUALPA

ZARUMA

PORTOVELO

PIÑAS

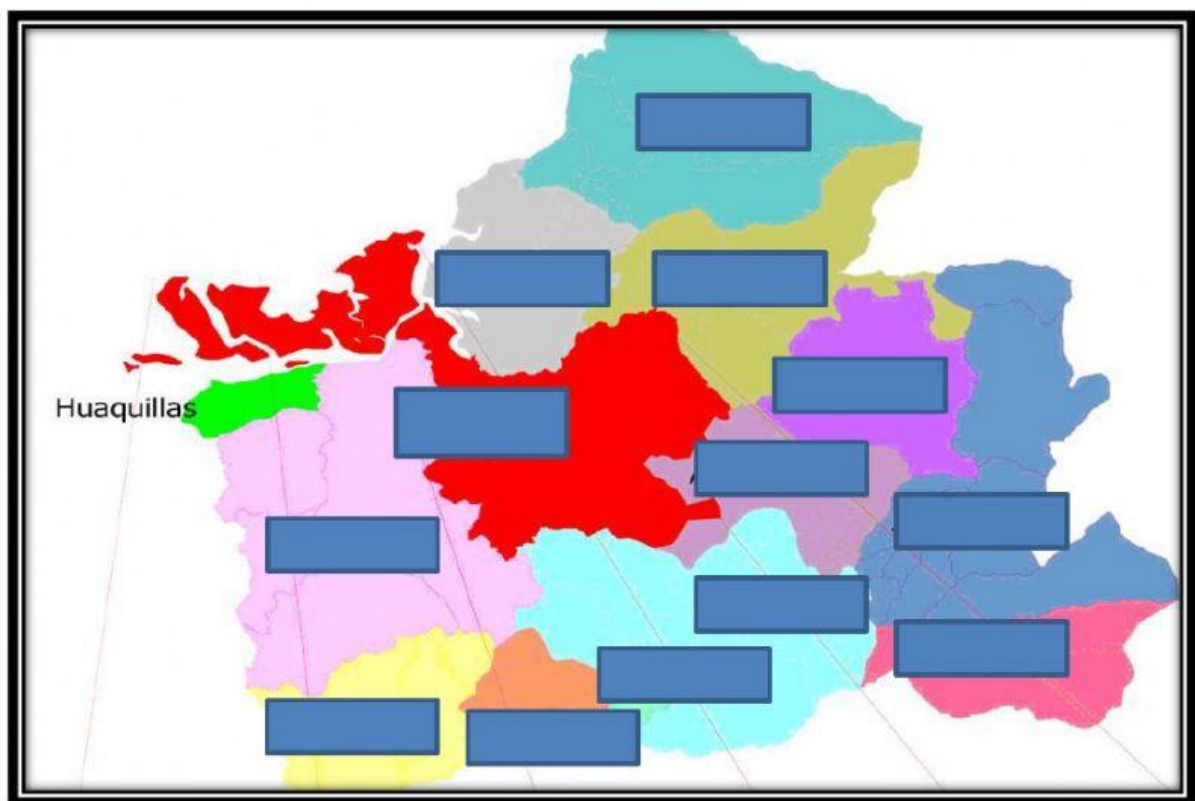
BALSAS

ARENILLAS

LAS LAJAS

MARCABELÌ

CANTONES DE LA PROVINCIA DEL ORO



ITEM:

Reactivos de ARRASTRAR

3. **ORDEN DE LA PREGUNTA:** ARRASTRAR Y UBICAR DONDE CORRESPONDE COLOCAR LAS CANTIDADES DE LAS PARROQUIAS URBANAS Y RURALES DE NUESTRO PAÍS.

1 PUNTO

Las Parroquias

TOTAL DE PARROQUIAS

RURAL

URBANAS

359

1.499

1140

ITEM:

Reactivos de ARRASTRAR

4. **ORDEN DE LA PREGUNTA:** BUSCAR EN LA SOPA DE LETRAS

1 PUNTO

U	Y	T	Q	T	L	O	S	R	I	O	S	B	T
Y	D	H	C	Q	J	S	I	E	R	G	X	R	R
S	S	A	G	Z	P	M	K	R	N	P	Q	L	Z
A	G	U	A	Y	A	S	Z	E	L	O	R	O	I
N	C	T	N	B	R	V	I	L	N	V	N	I	K
T	M	Z	S	A	N	T	A	E	L	E	N	A	G
O	S	L	Y	X	K	P	F	X	C	L	N	D	L
D	Y	Y	I	D	L	J	Y	J	K	F	H	L	O
O	S	L	P	P	J	P	U	R	U	U	F	Y	M
M	Z	L	R	P	M	R	P	D	A	L	H	X	R
I	E	C	J	E	S	M	E	R	A	L	D	A	S
N	E	R	L	E	T	I	D	O	F	P	J	V	J
G	A	U	E	T	R	Y	C	F	I	Q	Y	A	C
O	Y	M	A	N	A	B	I	Y	I	G	P	J	L



ITEM:

Reactivos de COMPLETAR

5. **ORDEN DE LA PREGUNTA:** ARRASTRAR Y COMPLETAR LA LÍNEA DE TIEMPO SEGÚN CORRESPONDA

3 PUNTOS

Se funda el Ecuador conformando 3 departamentos (QUITO, GUAYAQUIL Y AZUAY) y 7 provincias.

Se crea la provincia de León, luego Cotopaxi

Se crea la provincia de Ambato, luego Tungurahua

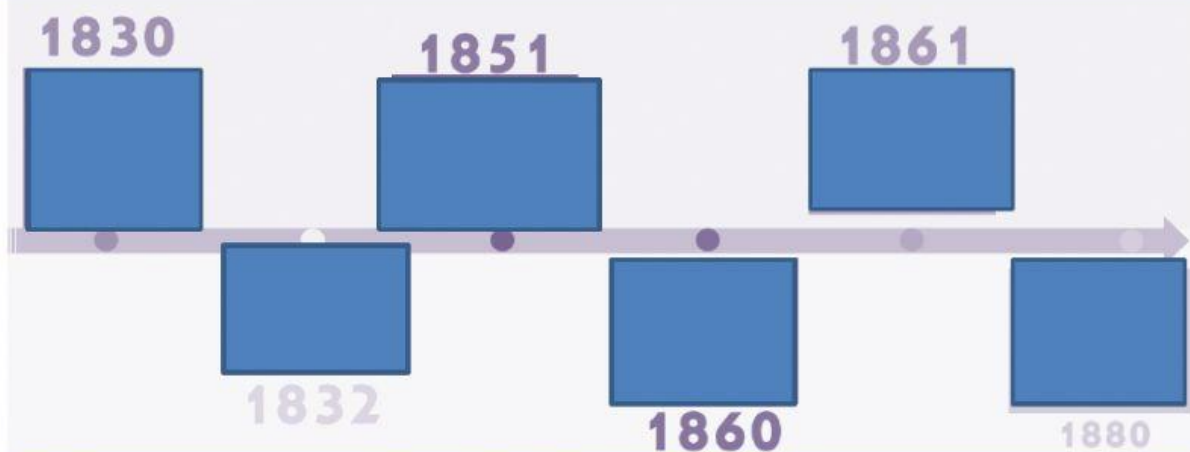
Se crean las provincias de Veintimilla (hoy Carchi) y Azogues (actual Cañar)



Se crean las provincias de Esmeraldas, Los Ríos y El oro

Se incorpora el Archipiélago de Galápagos

EVOLUCIÓN DE LA DIVISIÓN TERRITORIAL DE ECUADOR

Línea de Tiempo



Elaborado	Revisado	APROBADO
		
Lic. Doris Cristina Luna Vergara DOCENTE	Lic. DORIS LUNA JEFE DE ÁREA	Dr. Anecio Martínez VICERRECTOR