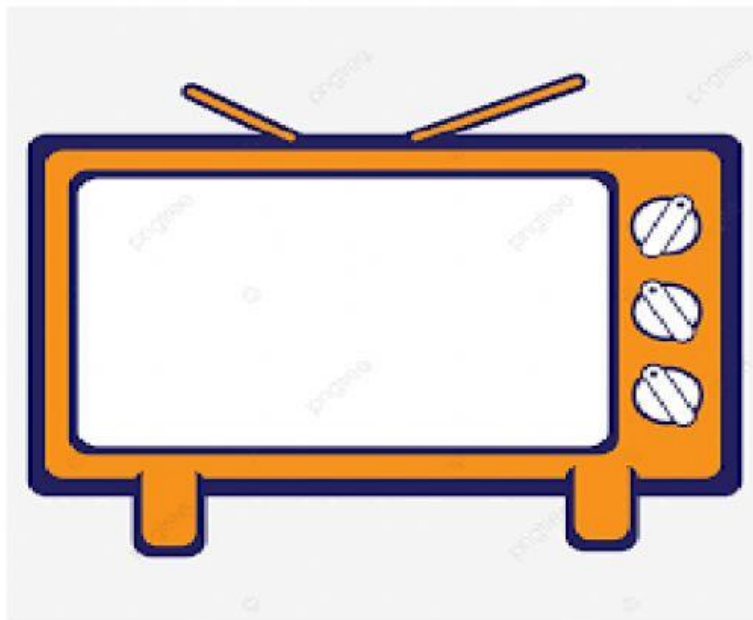


<b>ESCOLA MUNICIPAL CONSELHEIRO JOSINO</b>	
<b>LABORATÓRIO DE TECNOLOGIAS DIGITAIS</b>	
<b>PROFESSORA:</b> Andréa Jardim	<b>DATA:</b>
<b>ALUNO (A):</b>	<b>TURMA:</b> 3º ano
<b>CAMPO DO CONHECIMENTO:</b> Matemática	<b>CÓDIGO:</b> EF03MA20
<b>HABILIDADES:</b> Estimar, medir e comparar capacidade e massa, utilizando unidades de medidas não padronizadas e padronizadas mais usuais ( litro, mililitro, quilograma, grama e miligrama) em leitura de rótulos e embalagens, entre outros.	

### MEDIDA DE CAPACIDADE – LITRO



Pela necessidade de medir-se a capacidade de objetos, surgiram algumas **medidas de capacidade** ao longo da história. Medir a capacidade ou o volume de objetos é uma prática comum e necessária. As **principais medidas de capacidade** são:

- litro
- metro cúbico


O litro geralmente é utilizado para medir-se capacidade de líquidos, como leite, água, sucos, produtos de limpeza. O metro cúbico é utilizado para medir-se **volume**, como de caixas, cômodos, malas, entre outros objetos.

## ATIVIDADES MEDIDA DE CAPACIDADE

Para medirmos o leite, a água, o óleo, o álcool, a gasolina e outros líquidos, usamos a unidade de capacidade chamada **litro**.

- A metade de **1 litro** chama-se **meio litro**.
- Um litro tem **2 meios litros**.

1 – Veja o desenho e complete as frases:



- a) Na imagem foram colocados 1 litro em \_\_\_\_\_ jaras de meio litro.
- b) Se 1 litro tem \_\_\_\_\_ meios litros, 2 litros tem \_\_\_\_\_ meios litros.
- c) 3 meios litros, forma \_\_\_\_\_

2- Responda de acordo com as imagens:



a) Quantos litros de Coca Cola temos ?

( ) 4 Litros      ( ) 2 Litros      ( ) 3 Litros



b) Quantos litros de água temos?

( ) 6 Litros      ( ) 3 Litros      ( ) 4 Litros



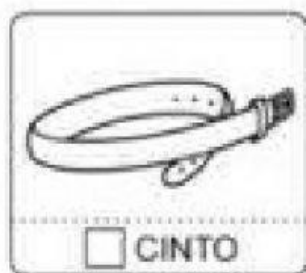


Quantas garrafas dessa de Coca- Cola é preciso para:

a) Ter 2 litros = \_\_\_\_\_

b) Ter 1 litro = \_\_\_\_\_

c) Ter meio litro = \_\_\_\_\_

3- Marque com X o que compramos por litro:



4- Observe as figuras abaixo e assinale a alternativa correta:

A xícara deve ter:

mais de 1 litro. ☐

menos de 1 litro ☐

1 litro. ☐



O balde deve ter:

mais de 1 litro. ☐

menos de 1 litro. ☐

1 litro. ☐

