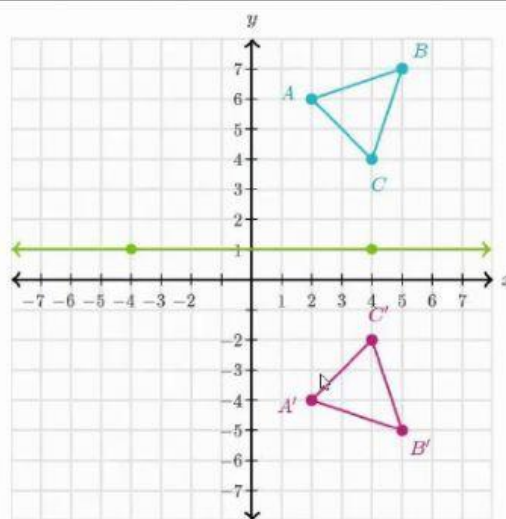


PRETEST REFLEXION Y SIMETRIAS

En la siguiente imagen, elige la respuesta correcta:

- 1) La reflexión que se realiza es con respecto al eje
- 2) Las coordenadas de los vértices de la imagen son:
 $A' (\quad , \quad)$ $B' (\quad , \quad)$ $C' (\quad , \quad)$
- 3) La recta verde tiene por ecuación :

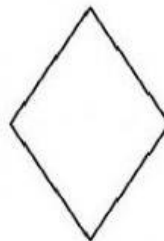


Marca las figuras que tienen más de un eje de simetría

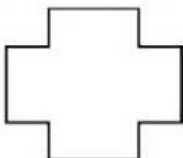
1)



2)



3)



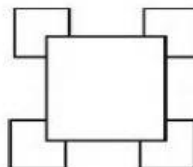
4)



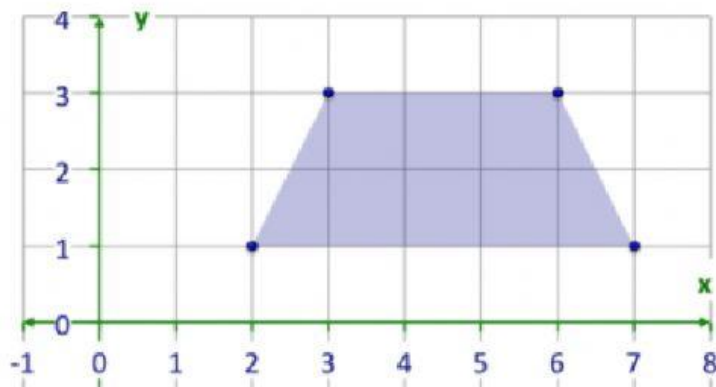
5)



6)



Determina las coordenadas de la imagen del trapezoide al reflejarlo en:



Eje x :

A' (,)

B' (,)

C' (,)

D' (,)

Eje y :

A' (,)

B' (,)

C' (,)

D' (,)

Reflexión en el origen

A' (,)

B' (,)

C' (,)

D' (,)