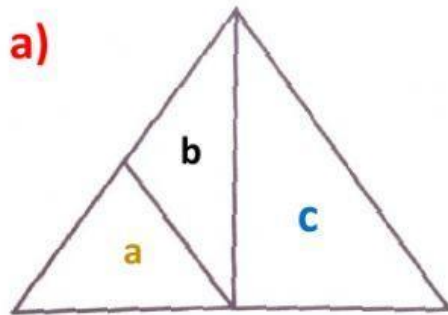
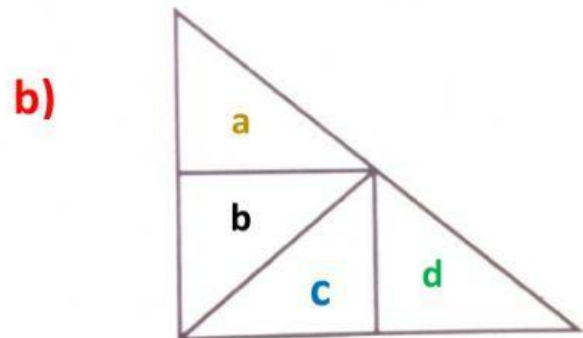


REFUERZO LO APRENDIDO: CONTEO DE FIGURAS

01. ¿Cuántos triángulos hay en cada figura?

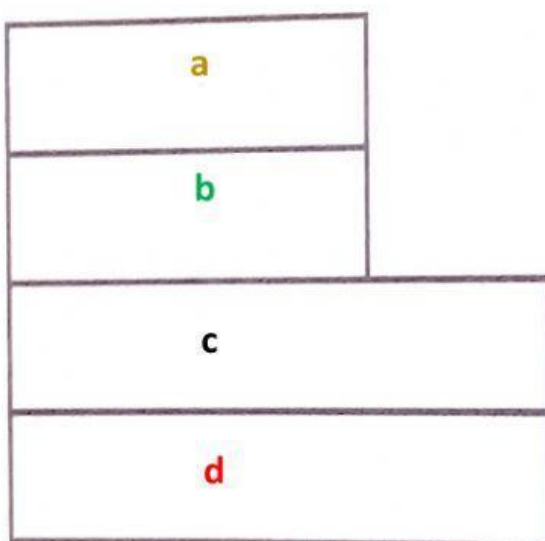


N° de regiones	N° de triángulos	Cantidad
1		
2		
3		
TOTAL		



N° de regiones	N° de triángulos	Cantidad
1		
2		
3		
4		
TOTAL		

02. ¿Cuántos cuadriláteros hay en la figura?



N° de regiones	N° de cuadriláteros	Cantidad
1		
2		
3		
4		
TOTAL		