

Guía de trabajo

Segundo básico

Nombre: _____ Curso: _____ Fecha: _____



Cuenta desde la cantidad indicada y escribe el total.

a.



100 lápices



► Hay lápices.

b.



\$250



► Hay \$

c.

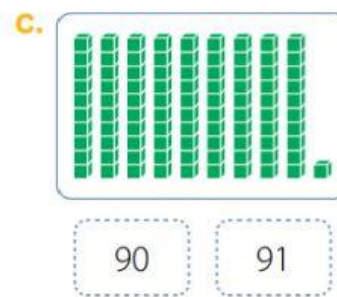
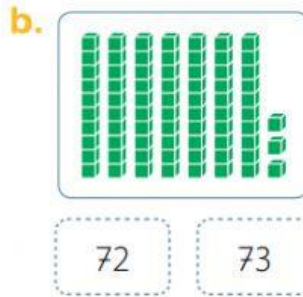
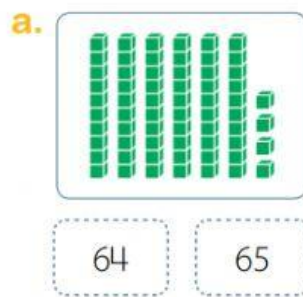


315 palos de helado



► Hay palos
de helado.

 Remarca el número representado.



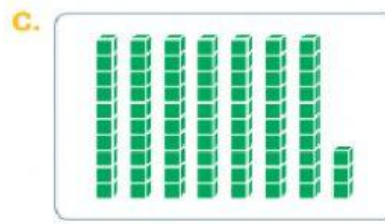
 Cuenta.




 Completa.



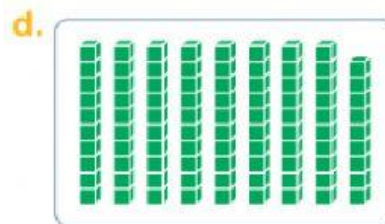
Hay decenas
y unidades.



Hay decenas
y unidades.



Hay decenas
y unidades.



Hay decenas
y unidades.

 Descubre cada número.

a. Tiene 7 unidades y 2 decenas.



b. El valor del 8 es 80 U y el del 6 es 6 U.



c. El valor del 3 es 3 U y el del 9 es 90 U.



d. Tiene 8 decenas y 5 unidades.



e. Tiene 9 unidades y 7 decenas.

