

Prueba de la división



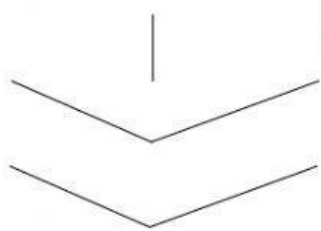
Resuelve las divisiones y comprueba que estén bien hechas haciendo la prueba de la división

$$\begin{array}{r} \overline{) 87} \\ \underline{4 } \\ 7 \\ \underline{ 0} \\ 7 \\ \underline{ 0} \\ 7 \\ \underline{ 0} \\ 7 \end{array}$$

| | | | | |
|----------------------|----------------------|----------------------|----------------------|----------------------|
| Divisor | x | Cociente | + | Resto |
| <input type="text"/> | <input type="text"/> | <input type="text"/> | <input type="text"/> | <input type="text"/> |
| <input type="text"/> | | <input type="text"/> | <input type="text"/> | |
| <input type="text"/> | | | <input type="text"/> | <input type="text"/> |
| <input type="text"/> | | | | |

¿Te da como resultado el mismo número que el que está en el dividendo?

$$\begin{array}{r} \overline{) 95} \\ \underline{3 } \\ 5 \\ \underline{ 0} \\ 5 \\ \underline{ 0} \\ 5 \\ \underline{ 0} \\ 5 \end{array}$$

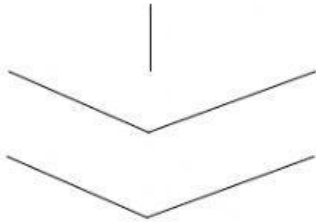


| | | | | |
|----------------------|----------------------|----------------------|----------------------|----------------------|
| <input type="text"/> | x | <input type="text"/> | + | <input type="text"/> |
| <input type="text"/> | <input type="text"/> | <input type="text"/> | <input type="text"/> | <input type="text"/> |
| <input type="text"/> | | <input type="text"/> | <input type="text"/> | |
| <input type="text"/> | | | <input type="text"/> | <input type="text"/> |
| <input type="text"/> | | | | |

¿Te da como resultado el mismo número que el que está en el dividendo?

$$\begin{array}{r} \overline{)79} \\ \underline{0} \\ 79 \\ \underline{0} \\ 9 \\ \underline{0} \\ 9 \\ \underline{0} \\ 9 \\ \underline{0} \\ 9 \end{array}$$

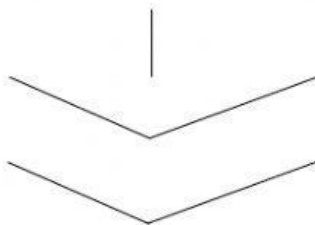
| | | | | |
|----------------------|---|----------------------|---|----------------------|
| <input type="text"/> | ○ | <input type="text"/> | ○ | <input type="text"/> |
| <input type="text"/> | ○ | <input type="text"/> | ○ | <input type="text"/> |
| <input type="text"/> | | <input type="text"/> | ○ | <input type="text"/> |
| | | <input type="text"/> | | |



¿Te da como resultado el mismo número que el que está en el dividendo?

$$\begin{array}{r} \overline{)63} \\ \underline{0} \\ 63 \\ \underline{0} \\ 3 \\ \underline{0} \\ 3 \\ \underline{0} \\ 3 \\ \underline{0} \\ 3 \end{array}$$

| | | | | |
|----------------------|---|----------------------|---|----------------------|
| <input type="text"/> | ○ | <input type="text"/> | ○ | <input type="text"/> |
| <input type="text"/> | ○ | <input type="text"/> | ○ | <input type="text"/> |
| <input type="text"/> | | <input type="text"/> | ○ | <input type="text"/> |
| | | <input type="text"/> | | |



¿Te da como resultado el mismo número que el que está en el dividendo?