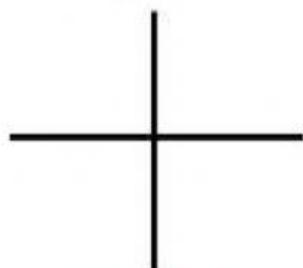
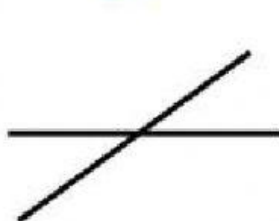


## HAI ĐƯỜNG THẲNG VUÔNG GÓC


**Bài 1:** Dùng ê ke để kiểm tra rồi khoanh vào chữ đặt trước câu trả lời đúng ?




Hình 1



Hình 2



Hình 3




Hình 4

Trong các hình trên, hình vẽ hai đường thẳng vuông góc với nhau là:

- A. Hình 4      B. Hình 3      C. Hình 2      D. Hình 1

**Bài 2:** Viết tiếp vào chỗ chấm.



Các cặp cạnh vuông góc với nhau trong hình chữ nhật ABCD là:

- Cặp cạnh ..... và ..... vuông góc với nhau
- Cặp cạnh ..... và ..... vuông góc với nhau
- Cặp cạnh ..... và ..... vuông góc với nhau
- Cặp cạnh ..... và ..... vuông góc với nhau



**Bài 3:** Dùng ê ke để kiểm tra góc vuông rồi nêu tên từng cặp đoạn thẳng vuông góc với nhau có trong hình sau :

Có 2 cặp đoạn thẳng vuông góc với nhau là:

..... và .....

..... và .....

