






Kelas :

B. Tarik garis, kemudian pasangkan bunyi sila Pancasila sesuai dengan lambangnya!

Ketuhanan Yang Maha Esa	
Kemanusiaan yang adil dan beradab	
Persatuan Indonesia	
Kerakyatan yang dipimpin oleh hikmat kebijaksanaan dalam permusyawaratan/perwakilan	
Keadilan sosial bagi seluruh rakyat Indonesia	

C. Pilihlah a, b, atau c sebagai jawabanmu!

1. Rudi suka bersepeda dengan ibunya. Roda pada sepeda berbentuk
 - a. segi tiga
 - b. lingkaran
 - c. persegi
2. Perhatikan bangun datar di bawah ini! Gambar segitiga ditunjukkan dengan warna



- a. merah
- b. kuning
- c. hijau

3. Contoh benda yang memiliki bentuk persegi panjang adalah

a.




b.



c.

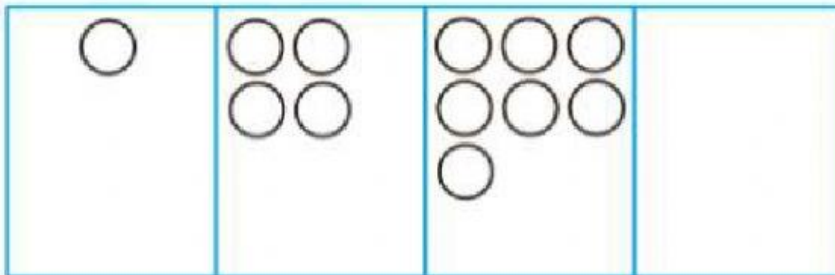


4. Urutan buah di bawah dari yang jumlahnya paling sedikit adalah ...



- a. semangka – apel – stroberi – jeruk
- b. stroberi – apel – semangka – jeruk
- c. jeruk – semangka – apel - stroberi

5. Jumlah lingkaran yang tepat untuk melengkapi pola lingkaran di bawah adalah



- a. 10
- b. 13
- c. 12