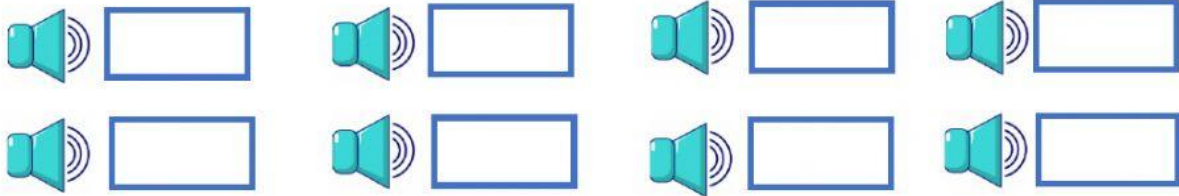


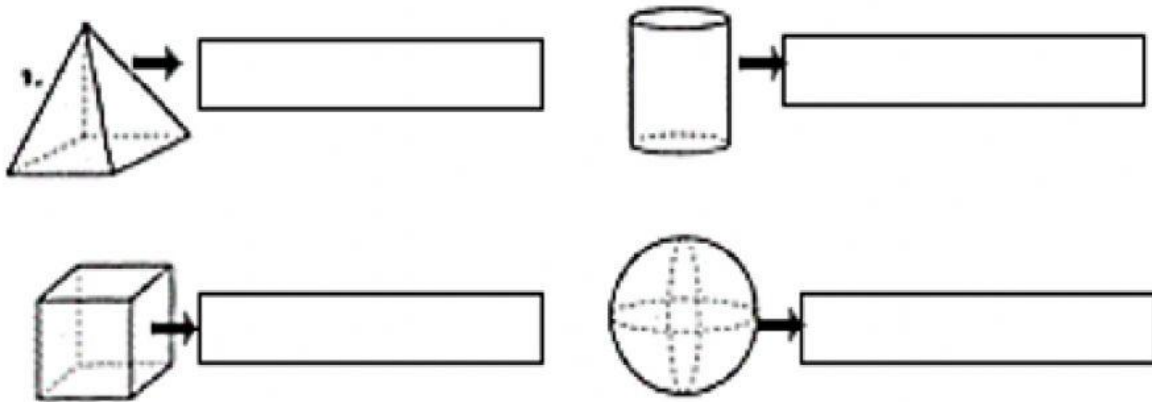
Colegio Madre Adela
Taller Evaluativo de matemáticas

1. Dictado de números





Activa cada parlante para escuchar el número y escribe en cada cuadro.



2. Despliega en cada cuadro y elige el nombre de la figura según la imagen.



3. Une los relojes con la hora correspondiente en número y letra.

7:30 ●	● 	● Tres en punto
1:00 ●	● 	● Diez y media
10:30 ●	● 	● Una en punto
3:00 ●	● 	● siete y media

4. Organiza las cantidades, escribiendo el número en cada cuadro de la tabla según corresponda.

$$6 \text{ U} - 4 \text{ D} - 2 \text{ UM} - 7 \text{ C}$$

Um	C	D	U

$$2 \text{ D} - 1 \text{ C} - 6 \text{ U} - 1 \text{ UM}$$

Um	C	D	U

$$4 \text{ C} - 6 \text{ U} - 8 \text{ UM} - 1 \text{ D}$$

Um	C	D	U

6. Resuelve las sumas y restas en una hoja blanca, cuando ya las hayas realizado escribe el resultado dentro de los cuadros.

$$\begin{array}{r} \\ + 4.148 \\ + 2.427 \\ \hline \square\square\square\square \end{array}$$

$$\begin{array}{r} \\ + 6.525 \\ + 1.125 \\ \hline \square\square\square\square \end{array}$$

$$\begin{array}{r} \\ - 5.542 \\ - 1.126 \\ \hline \square\square\square\square \end{array}$$

$$\begin{array}{r} \\ - 4.671 \\ - 1.236 \\ \hline \square\square\square\square \end{array}$$