



LOS CONTINENTES

(TEMA 2, 3 EP)

Observa el mapa. Después...


1. Coloca el nombre de cada continente en su lugar 

ÁFRICA ASIA AMÉRICA OCEANÍA ANTÁRTIDA

2. Coloca el nombre de lo mares y océanos de la Tierra 

Océano Pacífico - Océano Pacífico - Océano Índico

Mar Atlántico - Océano Artico - Océano Antártico

3. Coloca cada letra en su lugar del mapa correspondiente 

Asia

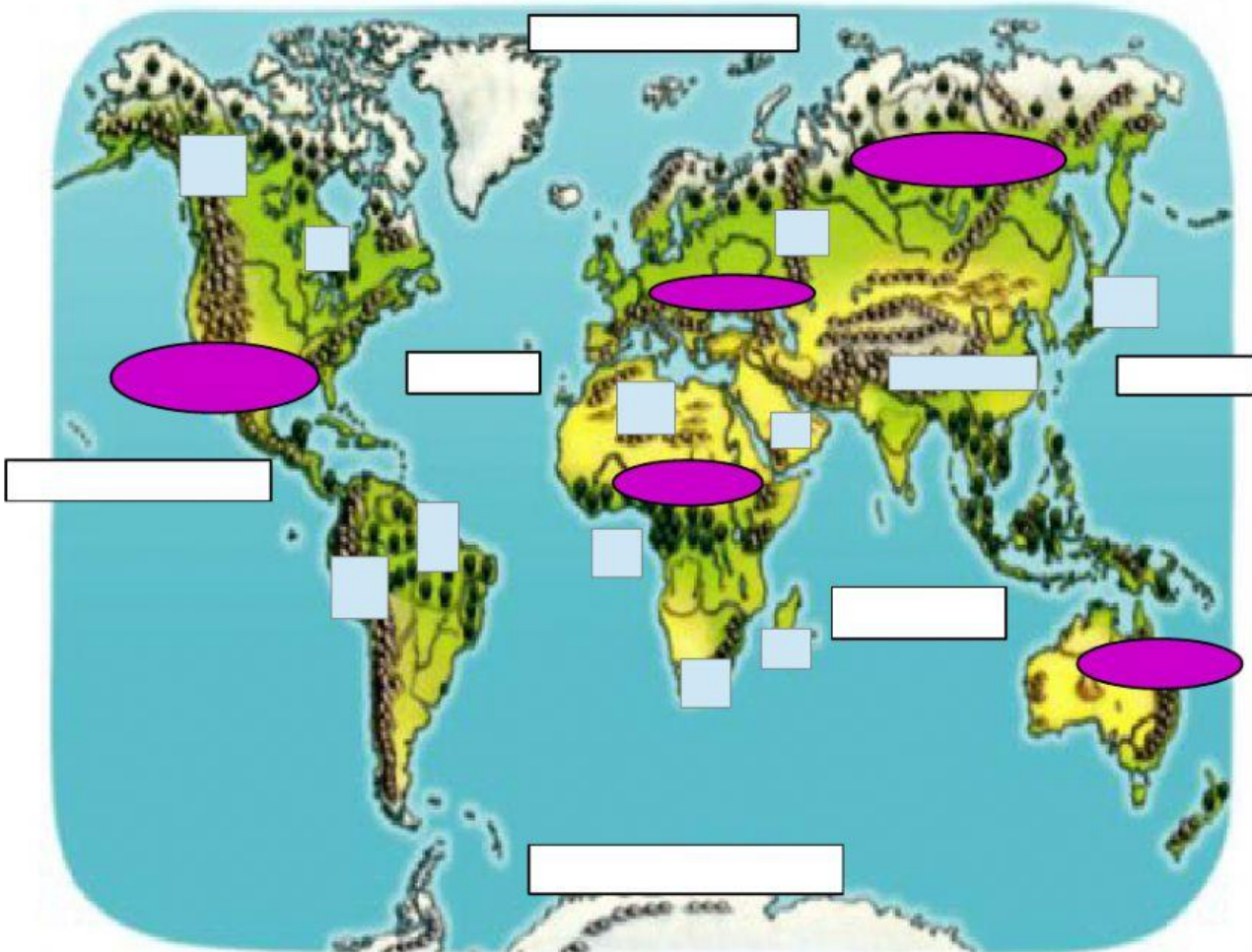
Montes Urales A
Himalaya B
Península arábiga D
Islas de Japón C

África

Desierto del Sahara E
Montes Drakensberg F
Golfo de Guinea G
Isla de Madagascar H

AMÉRICA

Cordillera de los Andes I
Montañas Rocosas J
Llanura del Amazonas K
Lago Superior L



4. Elige las ciudades más pobladas de cada continente y colócalas en su recuadro.

**Nueva Deli, Shanhai, Hon Kong ,Lagos, El Cairo , Los Ángeles, Tokio,
México D. F., São Paulo , Nueva York, Buenos Aires**

América

Asia

África