




COLEGIO AGUSTINIANO EVALUACIÓN DE GEOMETRÍA

NOMBRE _____

1. ¿Cuáles son los animales más pesados?













El elefante y el mono.

El elefante y la hormiga.

El mono y la hormiga.

2. Según el siguiente pictograma, ¿cuál es el total de autos que tiene Javier?

Cada auto representa 3.

COLOR	CANTIDAD	TOTAL
azul	  	
rojo	 	
amarillo	    	

30

10

20

3. ¿Cuál es el deporte menos favorito de los niños de primer año?

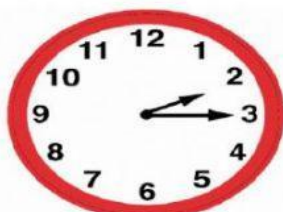


Fútbol

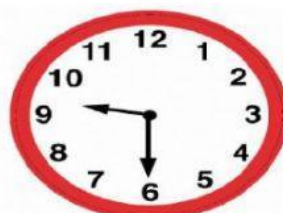
Tenis

Ninguno

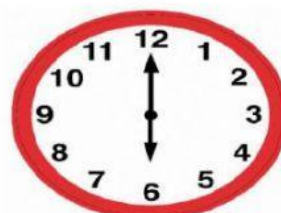
4. Escribe la hora correcta.



:

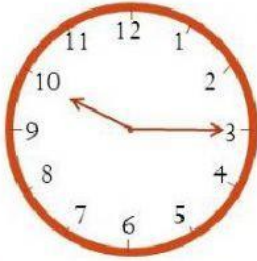


:

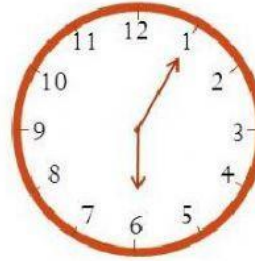


:

5. Observa con atención. ¿ Que hora es? Marca la opción correcta.







6. La capacidad de un recipiente se mide con...






Gramos

Litros

Pesa

7. Señala cuáles de estos productos se vende por metros.



8. Pulsa sobre los instrumentos que miden la masa.

