



Los Cuadriláteros





¿Qué es un cuadrilátero?

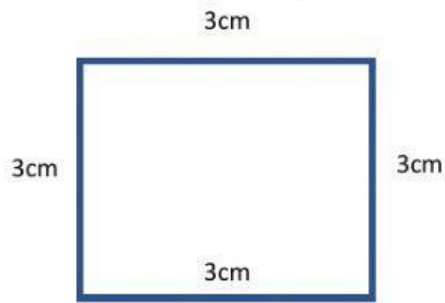
Los cuadriláteros poseen:

Coloca el nombre a los siguientes cuadriláteros.

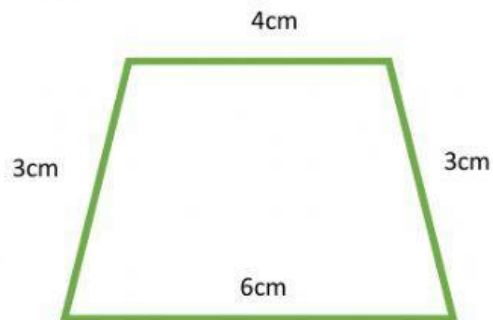
(Cuida tu ortografía, escribe con minúscula)



Calcula el perímetro de los siguientes cuadriláteros.

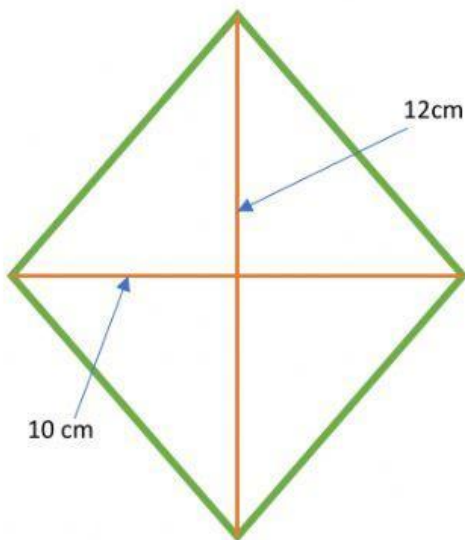


$$P = \boxed{} + \boxed{} + \boxed{} + \boxed{} = \boxed{}$$



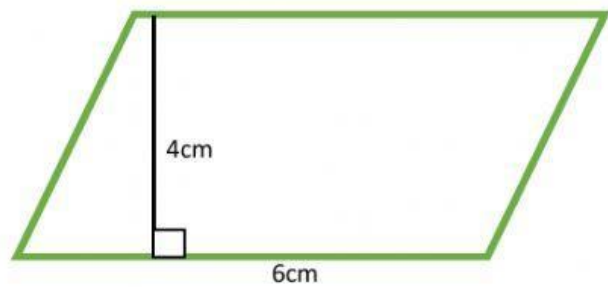
$$P = \boxed{} + \boxed{} + \boxed{} + \boxed{} = \boxed{}$$

Calcula el área de los siguientes cuadriláteros. Recuerda las fórmulas.



$$A = \boxed{} \times \boxed{}$$

$$A = \boxed{}$$



$$A = \boxed{} \times \boxed{}$$

$$A = \boxed{}$$

Maestra Guillermina

