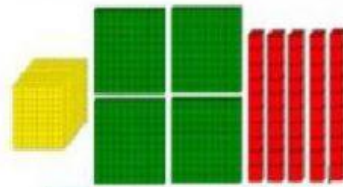
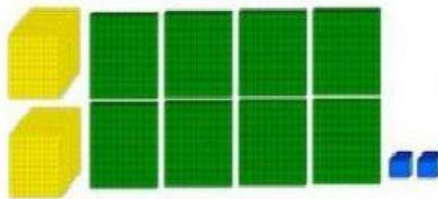
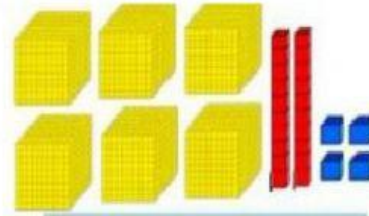
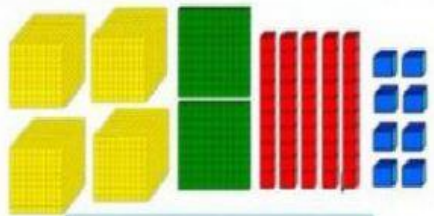


LECCIÓN #15



- Observa la representación base 10 y escribe los números.



- Descomposición de cantidades

7 629 → _____ + _____ + _____ + _____

7 629 → UM + C + D + U

- Escribe en letras las siguientes cantidades.

2 392 =

8 745 =