






Suma iterada


Nombre: _____


1.- Resuelve las siguientes sumas iteradas.


_____ + _____ + _____ + _____ = _____
 =


_____ + _____ + _____ + _____ + _____ + _____ + _____ = _____
 =


_____ + _____ + _____ = _____
 =


_____ + _____ + _____ + _____ + _____ = _____
 =


_____ + _____ + _____ + _____ = _____
 =

2.- Una la frase numérica con la representación correcta.

Fila A

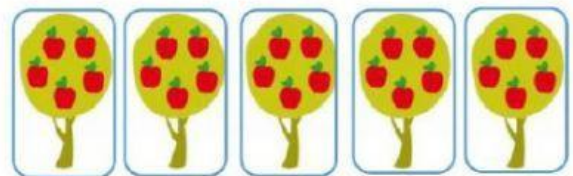
5 veces 5 = 25

3 veces 7 = 21

5 veces 4 = 20

4 veces 6 = 24

Fila B



3.- Marca con una X la alternativa correcta.

• $7 + 7 + 7 =$

a) 12

b) 21

c) 31

• $6 + 6 + 6 + 6 =$

a) 25

b) 24

c) 34

• $3 + 3 + 3 + 3 + 3 =$

a) 20

b) 15

c) 25