

## Repasando lo aprendido (Pensadores)

Determina los siguientes conjuntos por extensión

B= [ Meses de año que tengan la vocal a ]

B= [ \_\_\_\_\_, \_\_\_\_\_, \_\_\_\_\_, \_\_\_\_\_ ]

C= [ Números impares menores que 10 ]

C= [ \_\_\_\_\_, \_\_\_\_\_, \_\_\_\_\_, \_\_\_\_\_, \_\_\_\_\_ ]

Determina los conjuntos por comprensión

D= [ Manzanilla, orégano, valeriana, toronjil ]

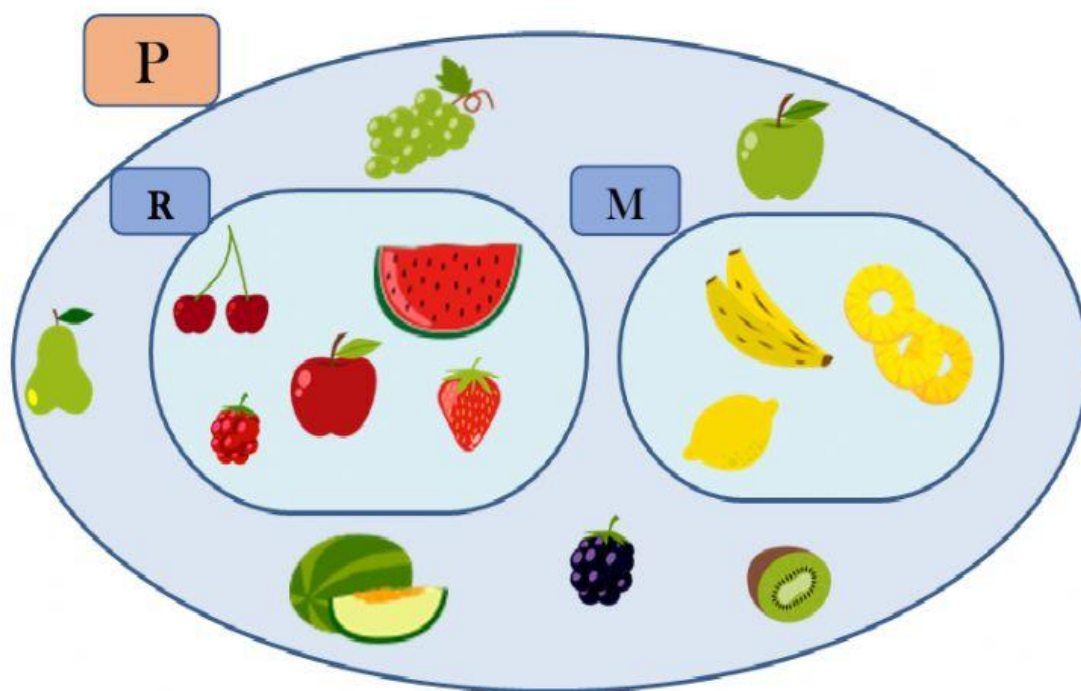
D= [ \_\_\_\_\_ ]

E= [ Guayas, Pichincha, Manabí, Carchi ]

E= [ \_\_\_\_\_ ]

Observa los siguientes conjuntos y coloca el signo correspondiente

## SUBCONJUNTOS:



P

R

M

P

R

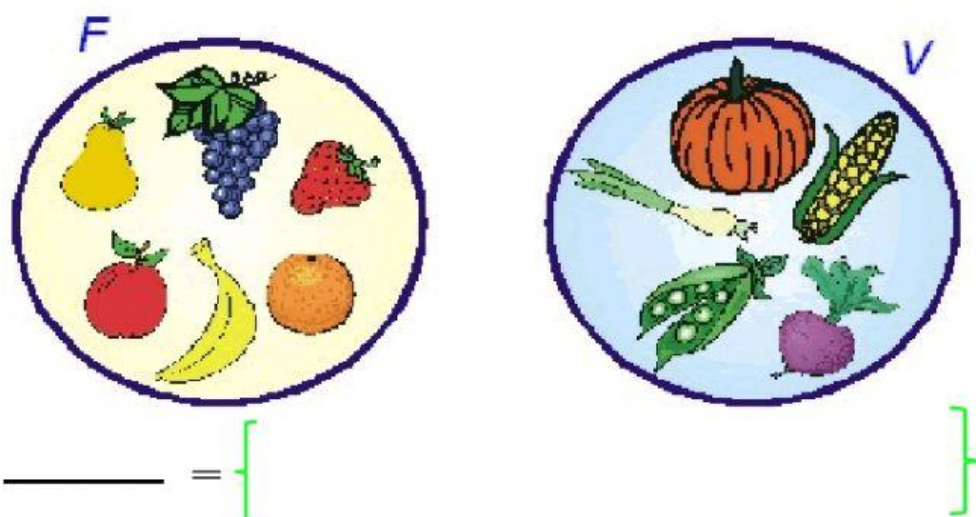
M

R

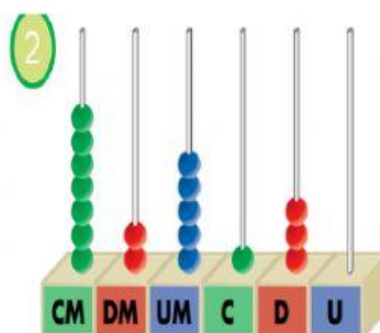
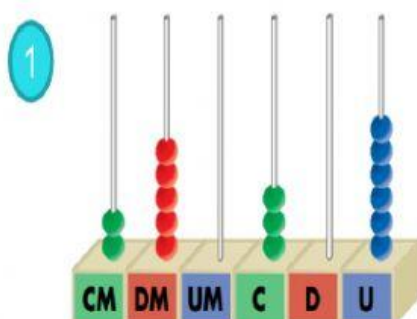
P



Observa el gráfico y realiza la unión de conjuntos



Escribe con cifras y con letras los números representados en el ábaco



1 → .....

.....

2 → .....

.....

## Observa la descomposición y relaciona

2 CM + 7 DM + 8 C + 6 U	200 786
2 CM + 7 DM + 8 C + 6 D	278 600
2 CM + 7 UM + 8 C + 6 U	270 086
200 000 + 700 + 80 + 6	207 806
200 000 + 70 000 + 8 000 + 600	270 860
200 000 + 70 000 + 80 + 6	270 806

## Lee y escribe en números las siguientes cantidades

Cuatrocientos cincuenta mil dos \_\_\_\_\_

Trescientos mil nueve \_\_\_\_\_

Quinientos noventa y cinco mil doscientos  
setenta y seis \_\_\_\_\_