



### Evaluación Sumativa Unidad 7


Nombre: \_\_\_\_\_

Fecha: 10/11/2021

Puntaje Real: 19 puntos.

1. El número **32** se escribe:

- A. ☐ treintaydos.
- B. ☐ treinta y dos.
- C. ☐ treinta dos.

Debes marcar con un   
la única respuesta  
correcta.



2. Tres números **mayores** que **67** son:

- A. ☐ 66, 69, 90
- B. ☐ 89, 66, 75
- C. ☐ 78, 69, 92

3. Ramón echó en su alcancía las siguientes monedas. ¿Cuánto dinero ahorró?

- A. ☐ \$71
- B. ☐ \$76
- C. ☐ \$80



4. Un número mayor que 77 es

- A. ☐ 87
- B. ☐ 57
- C. ☐ 67

5. Dos posibles **descomposiciones** del número **57** son

- A. ☐

$50 + 7$	$57 + 7$
----------	----------
- B. ☐

$40 + 17$	$90 + 7$
-----------	----------
- C. ☐

$50 + 7$	$30 + 27$
----------	-----------

6. Una **descomposición** del número **93** es

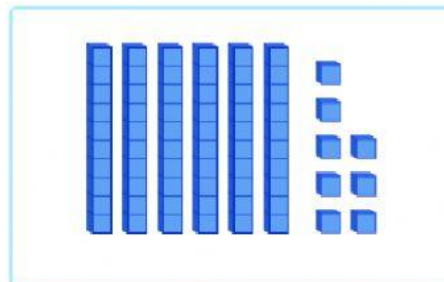
- A. ☐  $9U + 3D$
- B. ☐  $8D + 3U$
- C. ☐  $9D + 3U$

7. Felipe está leyendo un libro de **28** páginas. Si ya ha leído **14**,  
¿cuántas páginas le faltan para terminar el libro?

- A. ☐ 14
- B. ☐ 41
- C. ☐ 54

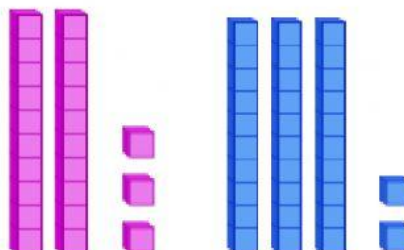
8. El número representado es

- A. ☐ 68
- B. ☐ 86
- C. ☐ 76



9. El resultado de **23 + 32** es

- A. ☐ 45
- B. ☐ 55
- C. ☐ 54

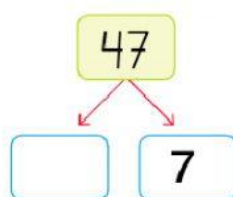


10. ¿Cuál es el número que completa la descomposición?

A. ☐ 9


B. ☐ 47

C. ☐ 40

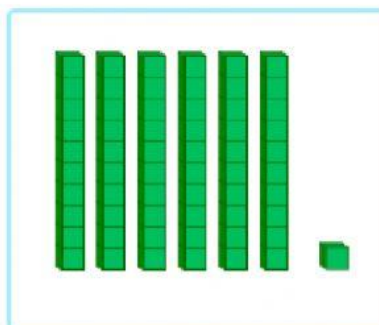


11. ¿Qué número está representado? Escríbelo en **cifras** y en **palabras**.

a)



b)



12. Pincha la operación correcta y escribe el resultado.

a) Ramiro se comió 22 uvas. Si tenía 35 uvas, ¿cuántas uvas le quedaron?

	30	+	5	
+	20	+	2	
	50	+	7	= 57

	30	+	5	
-	20	+	2	
	10	+	3	= 13

Respuesta:

---