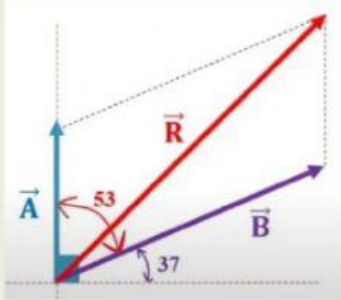
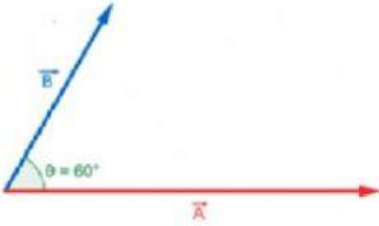
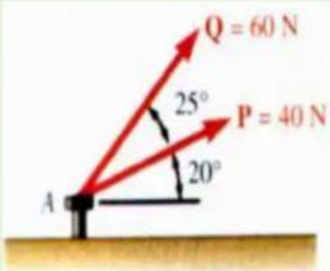


EVALUACIÓN

SUMA DE VECTORES
MÉTODO SENOS COSENOS

REALIZAR LAS SIGUIENTES OPERACIONES CON VECTORES

VECTORES	RESULTANTE
<p>Hallar $R = A + B$ si $A = 5$ $B = 12$</p> 	$R =$
 <p>Determine el módulo del vector resultante de los vectores A^* y B^*, teniendo en cuenta el gráfico. Además, $A^* = 6 \text{ u}$, $B^* = 4 \text{ u}$. ($\cos 60^\circ = 1/2$)</p>	$R =$
<p>Hallar la Resultante de:</p> 	$R =$ N