



## EXAMEN 3° TRIMESTRE DE MATEMÁTICAS PRIMER GRADO



Ms. Paula Paz  
☺ Observa y resuelve las siguientes sumas y restas.

D	U
1	2
6	5

+

D	U
2	8
6	0

+

D	U
5	4
3	7

+

D	U
2	6
1	5

+

D	U
6	8
3	5

-

D	U
5	6
3	2

-



D	U
8	2
5	4

-

D	U
6	4
4	5

-

☺ Coloca cada figura geometría en su lugar correspondiente.



Circulo

Triangulo

Cuadrado

Rectángulo


Rombo

☺ ¿Qué hora es?

Une con líneas cada reloj con la lectura de la hora.



Las diez en punto.



Las dos y media.



Las siete en punto.



Las diez y media.



Las tres y media.



☺ Completa la tabla con la escritura numeral y literal de los números.

D	U	Escritura literal
		Ochenta y uno
5	0	
3	6	
		Dieciséis
1	5	
		Veintiocho
9	7	

☺ Relaciona cada objeto con su forma.



Prisma

Piramide

Cilindro

Cono

Esfera

