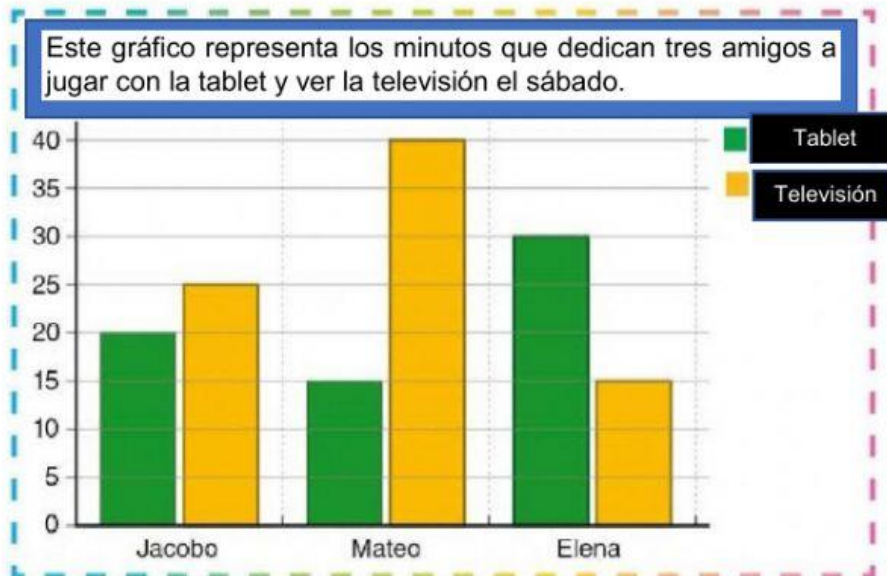




Tema: Diagrama de barras

Actividad 1: Observa la representación en el diagrama de barras y marca con una X las respuestas correctas.



1. ¿Cómo se llama el niño que ha visto por más tiempo televisión?

- ☐ Jacobo
- ☐ Mateo
- ☐ Elena

2. ¿Cuántos minutos ha jugado Jacobo con la tablet?

- ☐ 15 min
- ☐ 25 min
- ☐ 20 min

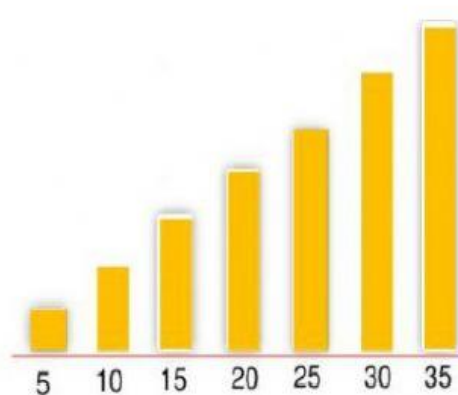
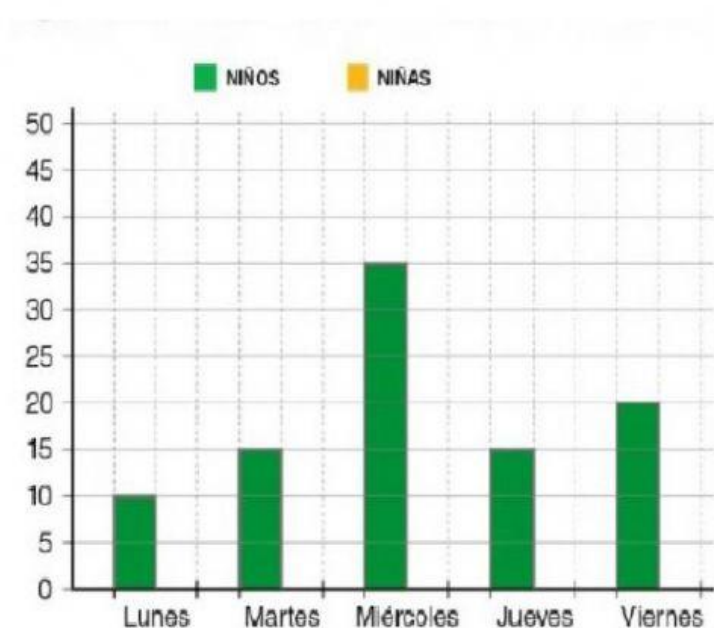
3. ¿Qué prefiere Elena, la televisión o la tablet?

- ☐ televisión
- ☐ tablet

Actividad 2: Lee y arrastra las barras para completar el gráfico de barras con los datos de la tabla.

En la tabla se recoge el número de niños y niñas que han utilizado la impresora 3 D durante la semana de demostración.

	Lunes	Martes	Miércoles	Jueves	Viernes
Niños	10	15	35	15	20
Niñas	5	15	20	25	35



Actividad 3: Actividad de habilidad mental (1 punto)

Escribe el número que continúa teniendo en cuenta el patrón numérico.

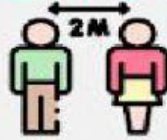


**LA PANDEMIA DE COVID-19 CONTINUA  
SIGUE LAS MEDIDAS MÍNIMAS**

**QUÉDATE  
EN CASA**



**SANA  
DISTANCIA**



**DESINFECTA  
SUPERFICIES**



**LAVA BIEN  
TUS MANOS**



**USA  
MASCARILLA**



**SIN FIESTAS  
PRESENCIALES**

