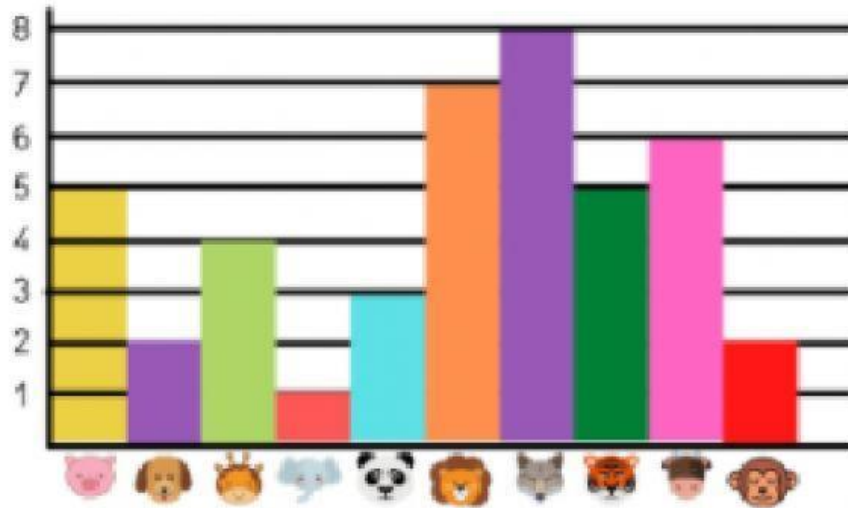












## GRÁFICO DE BARRAS

Mira el gráfico del zoológico y contesta las preguntas.



1.- ¿Cuántos hay?

	<input type="text"/>		<input type="text"/>		<input type="text"/>		<input type="text"/>		<input type="text"/>
	<input type="text"/>		<input type="text"/>		<input type="text"/>		<input type="text"/>		<input type="text"/>

2.- ¿Cuál es el animal más numeroso?



3.- ¿Cuál es el animal menos numeroso?

