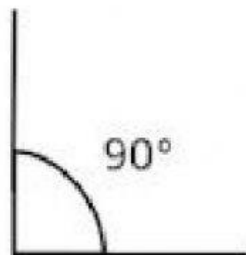
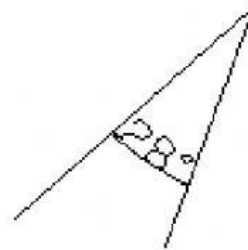
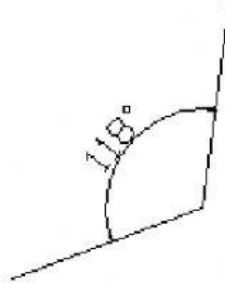
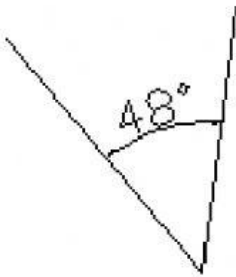




LICEO EL ROSAL
EVALUACIÓN DE GEOMETRÍA
GRADO TERCERO – IV PERIODO

NOMBRE:

**1. Escribe frente a cada ángulo qué clase es:
obtuso, llano, agudo o recto:**



2. Escribe los nombres de los siguientes sólidos geométricos:

