



**RESUELVE LOS PROBLEMAS Y
MARCA LA RESPUESTA CORRECTA**

Luis hizo 10 goles jugando al fútbol y Pedro 6 goles ¿Cuántos goles hizo Luis más que Pedro?

LUIS



PEDRO





- A. Luis hizo 3 goles más que Pedro.
- B. Luis hizo 4 goles más que Pedro.
- C. Luis hizo 5 goles más que Pedro.

Juan compró 5 naranjas, 2 sandías, 7 zanahorias y 4 papayas ¿Cuántas frutas compró Juan?

- A. 14 frutas
- B. 13 frutas
- C. 11 frutas

¿Cuántos huevos hay?



- A. Hay 4 huevos
- B. Hay 45 unidades
- C. Hay 4 decenas.