


- 1.** A DONA BARATINHA QUERIA MUITO SE CASAR! E ELA TINHA UMA COLEÇÃO DE ANÉIS DE OURO! CIRCULE OS ANÉIS DE 10 EM 10 E VEJA QUANTOS GRUPOS VOCÊ CONSEGUE FORMAR.



QUANTOS GRUPOS DE 10 VOCÊ FORMOU?

QUANTOS ANÉIS SOBRARAM?

QUANTOS SÃO OS ANÉIS DE DIAMANTE ?

QUANTOS SÃO OS ANÉIS DE PÉROLA ?

QUANTOS ANÉIS TÊM AO TODO?

- 2.** DONA BARATINHA PLANTOU NO SEU JARDIM: 5 MARGARIDAS, 4 GIRASSÓIS E 3 ROSAS. DESENHE NO RETÂNGULO ABAIXO E DESCUBRA QUANTAS FLORES DONA BARATINHA PLANTOU NA SUA JARDINEIRA.




NA JARDINEIRA DA DONA BARATINHA HÁ




FLORES!

- 3.** DONA BARATINHA TINHA 10 MOEDINHAS NO SEU COFRE, MAS DEU 5 MOEDINHAS DE PRESENTE PARA SUA AMIGA DONA FORMIGA. COM QUANTAS MOEDINHAS CADA UMA FICOU?



CADA UMA FICOU COM



MOEDINHAS

