


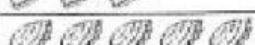



- 2) படக்குறிவரைவை அடிப்படையாகக் கொண்டு கேள்விகளுக்கு விடையளித்தீடுக.
படக்குறிவரைவு நான்கு நாள்களில் விற்கப்பட்ட 'கரிபாப்'களின் எண்ணிக்கையைக் காட்டுகிறது.

திங்கள்	
செவ்வாய்	
புதன்	
வியாழன்	

காவி :  10 கரிபாப்களைப் பிரதிநிதிக்கிறது.

- 1) படக்குறிவரைவு _____ விற்பனையைக் காட்டுகிறது
- 2) புதன்கிழமை _____ கரிபாப்கள் விற்கப்பட்டன.
- 3) திங்கட்கிழமை _____ கரிபாப்கள் விற்கப்பட்டன.
- 4) அதிகமாக விற்கப்பட்ட நாளுக்கும் குறைவாக விற்கப்பட்ட நாளுக்கும் உள்ள வேறுபாடு _____ கரிபாப்களாகும்.
- 5) நான்கு நாள்களில் மொத்தம் _____ கரிபாப்கள் விற்கப்பட்டன.

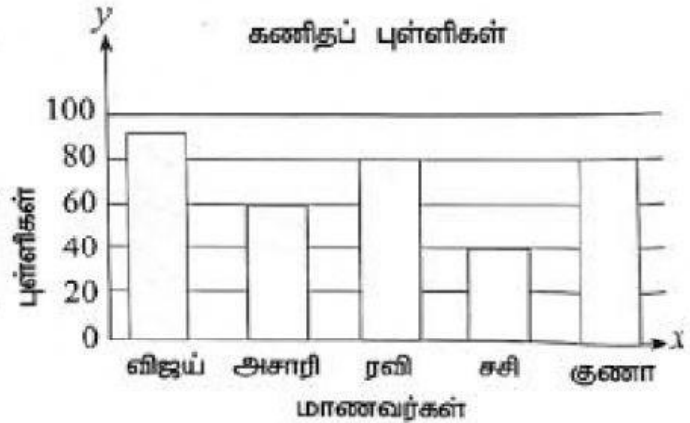
- 3) படக்குறிவரைவை அடிப்படையாகக் கொண்டு கேள்விகளுக்கு விடையளித்தீடுக.

படக்குறிவரைவு ஐந்து மாணவர்கள் பெற்ற கணிதப் பாடப் புள்ளியைக் காட்டுகிறது.

- 1) அசாரி பெற்ற புள்ளிகள் எத்தனை?

- 2) எந்த இருவர் ஒரே புள்ளிகளைப் பெற்றுள்ளனர்?

- 3) அதிகமான புள்ளிகளைப் பெற்ற மாணவனுக்கும் குறைவான புள்ளிகளைப் பெற்ற மாணவனுக்கும் இடையே உள்ள புள்ளிகளின் வேறுபாடு என்ன?



30

60

40

30

கரிப்பாப்

இரவி மற்றும் குணா

180

50 புள்ளிகள்