

MATEMÁTICAS

EXAMEN 1º TRIMESTRE

Instrucciones: Lee con ayuda de tu maestro las indicaciones y contesta de manera correcta.


1 a la 3.- Elige sólo los números.

2 R T 5 U 8 S P


4 a la 6.- Escribe los números que faltan en la serie numérica.

1	2	3		5	6			9	10
---	---	---	--	---	---	--	--	---	----

7 a la 9.- Cuenta y escribe la cantidad de animales de cada grupo.



10.- Carlos tenía 10 plátanos, pero se comió 3, ¿Cuántos le van a quedar?




Le van a quedar _____ plátanos.

11.- Elige al niño que tiene más puntos en la ficha de dominó.



KariBolt
CLIP ART CHS 111

12, 13 y 14.- Cuenta las frutas del rectángulo y escribe cuántas hay de cada una.








15 y 16.- Observa el registro que hicieron en el grupo acerca de la mascota que quieren tener y contesta las preguntas.


8				
7				
6				
5				
4				
3				
2				
1				



Tortuga



Perro



Conejo



Gato

¿Cuál es la mascota que la mayoría elige? _____


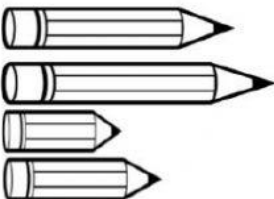
¿Y cuál es la que menos eligieron? _____

17.- Cuenta el dinero que ves.





Hay _____ pesos.


18.- Une con una línea los lápices que son del mismo tamaño.

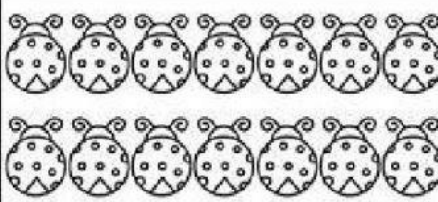


(19-20).-Colorea el número que corresponde a las figuras que hay en el cuadro.


EJEMPLO


	13  14
---	--

	15 14 13
---	--------------


	15 14 13
---	--------------


(21-23)-Une con una línea color Rojo el nombre de la figura correcta.






- Cuadrado
- Triángulo
- Rectángulo
- Circulo
- Paralelogramo








Note: A red line is drawn from the circle to the word "Circulo" in the list.

(24-25)- Arrastra los objetos hasta el cuadro hasta hacer los conjuntos que se te indican.

UNA DECENA DE LAPICES	
UNA DECENA Y TRES UNIDADES DE PELOTAS	
UNA DECENA Y CINCO UNIDADES DE CORAZONES	

