



ESCUELA DE EDUCACION BASICA
"VICTOR MANUEL ALBORNOZ"
AÑO LECTIVO 2021 - 2022



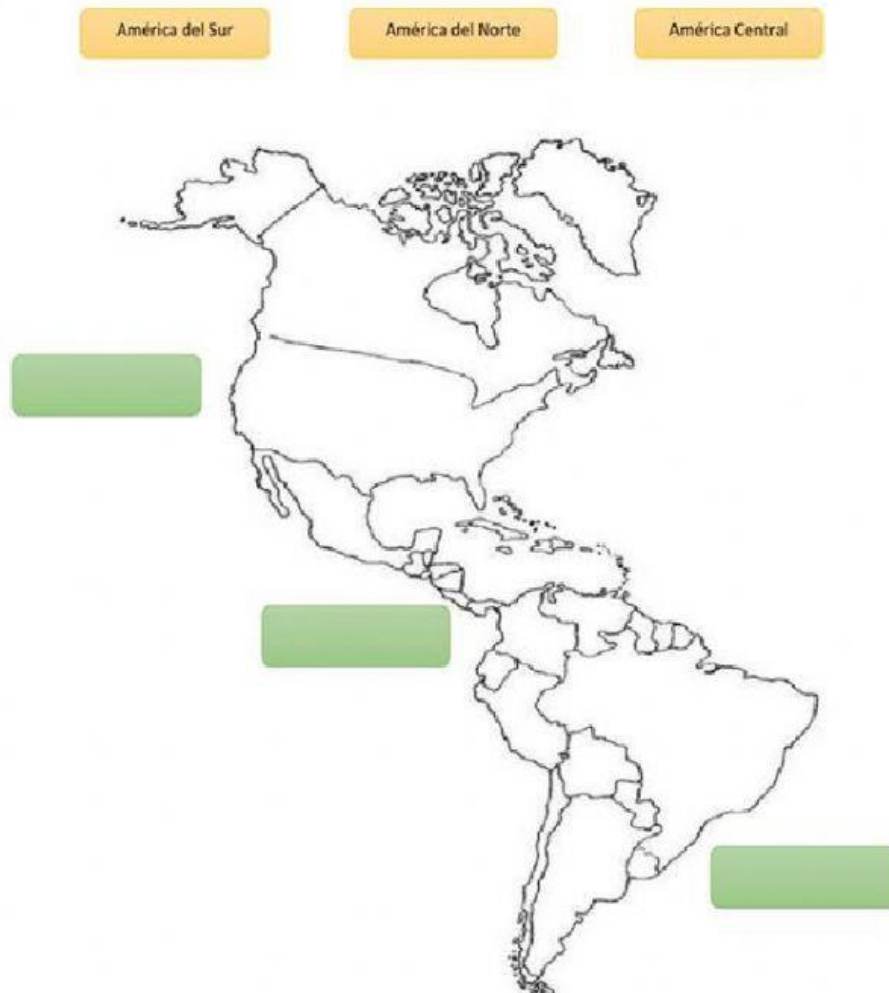
Nivel: Elemental	Área: Ciencias Sociales	Asignatura: Estudios Sociales	Año Lectivo: 2021 - 2022
Año EGB: Cuarto	Paralelos: "A" Vespertina	Quimestre: Primero	
Docente: Tgnl. Raquel Plaza			PARCIAL: 1
INDICADORES ESENCIALES DE EVALUACIÓN: I.CS.2.6.1. Reconoce que todos los ecuatorianos tenemos derechos, deberes, cualidades y valores humanos que aportan en la construcción de nuestra identidad y cultura nacional. (J.1., S.2.) I.CS.2.5.2. Analiza la geografía de su provincia y reconoce las acciones concretas que pueden realizar sus autoridades, a fin de prevenir los posibles desastres naturales, problemas económicos y demográficos. (I.1., I.2.) I.CS.2.6.1. Reconoce que todos los ecuatorianos tenemos derechos, deberes, cualidades y valores humanos que aportan en la construcción de nuestra identidad y cultura nacional. (J.1., S.2.) I.CS.2.6.3. Reconoce la ubicación del país y sus semejanzas con los países del resto del continente, con énfasis en los países de América del Sur, reconociendo que todos estamos vinculados por el respeto y promoción de derechos humanos universales.			
ESTUDIANTE:		FECHA:	
DESTREZA CON CRITERIO DE DESEMPEÑO	ITEMS		VALOR
CS.2.2.17. Reconocer al Ecuador como parte del continente americano y el mundo, identificando las semejanzas de sus características (regiones naturales, clima, paisajes, flora y fauna) con las del resto del continente.	1.- Relaciono los puntos cardinales y colaterales		8p
	NORTE	E	
	SUR	O	
	ESTE	NO	
	OESTE	SE	
	NORESTE	S	
	SURESTE	N	
	NOROESTE	SO	
	SUROESTE	N	



CS.2.2.18. Localizar los distintos territorios en los que se subdivide el continente americano: América del Norte, Centroamérica y América del Sur, a partir de la observación e interpretación de material cartográfico.

2.-

- Ubicar en el mapa el nombre de cada una de las Américas y marque donde está ubicado el Ecuador.



4p

3.- Escribo en el paréntesis V si es verdadero o F si es falso

_América es el continente más pequeño del planeta. ()

_América es el segundo continente más grande del planeta. ()

2p



CS.2.1.10. Localizar y apreciar el patrimonio natural y cultural de la localidad, parroquia, cantón, provincia y país, mediante la identificación de sus características y el reconocimiento de la necesidad social de su cuidado y conservación.	<p>4.- Uno correctamente: los países con la parte de América que pertenece.</p> <table><tr><td>México</td><td>América del Sur</td></tr><tr><td>Ecuador</td><td>América Central</td></tr><tr><td>Panamá</td><td>América del Norte</td></tr></table>	México	América del Sur	Ecuador	América Central	Panamá	América del Norte	3p
México	América del Sur							
Ecuador	América Central							
Panamá	América del Norte							
	<p>5.- Señalo el circulo del literal correcto sobre: los límites del Cantón Cuenca.</p> <p>a Norte -Loja, Sur- Cañar, Este- Sigsig y Oeste- Guayas.</p> <p>b Norte -Cañar, Sur- San Fernando y Girón, Este- Gualaceo- Chordeleg y Oeste- Guayas.</p> <p>c Norte -Cañar, Sur- Loja, Este- Morosa Santiago y Oeste- Guayas</p>	1p						
CS.2.2.13. Examinar y describir acciones para prevenir desastres tomando en cuenta los accidentes geográficos, las condiciones y ubicación de la vivienda y sus instalaciones.	<p>6.- Seleccionar lo que debemos hacer durante un Sismo.</p> <ul style="list-style-type: none">➤ Mantener la calma.➤ Llorar y gritar.➤ Retirarse de ventanas, y objetos que puedan caer.➤ Jugar y ver la televisión-➤ Ubicarse en zonas seguras.➤ Localizar las zonas seguras	4p						





CS.2.2.16. Explicar y apreciar la mega diversidad del Ecuador, a través de la identificación de sus límites, regiones naturales, provincias, su flora y fauna más representativa.

7.- Escribo en el paréntesis la V si es verdadero o F si es falso.

2p

El Ecuador es Megadiverso por:

-  Es megadiverso porque solo tiene animales hermosos como monos y conejos ()
-  Es megadiverso porque tiene fauna y flora hermosos, sus regiones naturales y más aún por la Cordillera de los Andes ()





8.-

En el siguiente grafico arrastra y ubica los limites y la región del Ecuador

7p





	<p>9.-</p> <p>Una con una línea las actividades económicas que correspondan a cada región del Ecuador.</p> <div></div> <div><div>Región Litoral o Costa</div><div>Región Sierra o Interandina</div><div>Región Amazónica u Oriente</div><div>Región Insular o Galápagos</div></div>	4p
	TOTAL, DE DIFICULTADES	35
	EQUIVALENCIA	/10

ELABORADO	VALIDADO	VISTO BUENO
DOCENTE: Tgnl. Raquel Plaza	COORDINADORA DE ÁREA:	SUBINSPECTORA:
Firma:	Firma:	Firma:
Fecha:	Fecha:	Fecha: