



2. Selecciona si es verdadero o falso:

- a) Los cazadores nómadas viajaron de América hacia otros continentes.
- b) Los hombres que llegaron a América conocían la agricultura y la ganadería.
- c) El hombre cruzó el Estrecho de Bering para llegar a América.

3. Selecciona la respuesta correcta:

1) Hace muchos años atrás, la Tierra se.....

calentó

congeló

inundó



2) Los primeros pobladores llegaron a América cruzando el .....

Puente colgante

Estrecho de Bering



3) Los primeros pobladores se dividen en .....

Nómadas y Sedentarios


Mujeres y Varones

4) Los ..... iban de un lugar a otro cazando animales y recolectando frutos.

viajeros

nómadas

turistas




5) Los ..... se quedaron en un solo lugar y se establecieron en viviendas .

sedentarios

sacerdotes

campesinos



**Instrucciones:** Arrastra la respuesta en el lugar correcto.

 Año	 Lustró	 Siglo	 Década	 Milenio
<input type="text"/>	<input type="text"/>	<input type="text"/>	<input type="text"/>	<input type="text"/>
1000 años	10 años	365 días	5 años	100 años

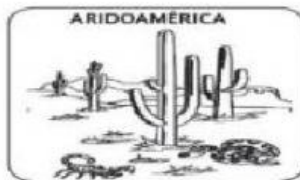
Une cada oración con su complemento:

1. Cómo justifican los historiadores que los nómadas dan comienzo a la práctica de la agricultura:
  - a) Maíz, chile, aguacate, frijol, chayote.
2. Son algunos ejemplos de lo que cultivaban los cazadores-recolectores:
  - b) Alrededor del año 5000 a. C.
3. Año en el que se inició el cultivo de maíz en México:
  - c) Porque aprendieron la agricultura y la domesticación.
4. Cómo fue que los grupos humanos dependieron menos de la cacería y la recolección:
  - d) Por el aumento de población, pues el alimento no alcanzaba.
5. ¿Qué es el "trueque"?
  - e) Es el intercambio de productos.
6. Fueron otras actividades que se desarrollaron en cuando se formaron las primeras comunidades:
  - f) La alfarería y la cestería.

Arrastra y coloca cada uno en el lugar que corresponde en el mapa:




Une la imagen con el texto que le corresponde:



Cubría gran parte de la superficie de los actuales estados mexicanos de Chihuahua y Sonora y de Arizona, Utah, Nuevo México y California, en Estados Unidos.



Sus límites territoriales abarcaban desde el noroeste de México, en los actuales estados de Sinaloa y Nayarit, hasta el occidente de Honduras, Nicaragua y Costa Rica.



Abarcó parte del territorio actual de Estados Unidos de América (centro y sur de California y noroeste de Arizona) y de México (Chihuahua, Coahuila, costa de Sonora y la península de Baja California).