

Repartos y división




1. Reparte en partes iguales y completa



$$\square : \square = \square$$

A cada niño le tocan globos.


Sobran globos.



$$\square : \square = \square$$

En cada plato hay magdalenas.

Sobran magdalenas.



$$\square : \square = \square$$

En cada jarrón hay flores.

Sobran flores.