












BÀI TẬP TOÁN ÔN TẬP TRONG PHẠM VI 8




Bài 1: Bé hãy viết số còn thiếu để tạo thành số đếm từ 1-8

	2					7	
--	---	--	--	--	--	---	--

Bài 2: Bé hãy đếm và viết số tương ứng vào ô trống

 <input type="text"/>	 <input type="text"/>	 <input type="text"/>
 <input type="text"/>	 <input type="text"/>	 <input type="text"/>
 <input type="text"/>	 <input type="text"/>	 <input type="text"/>

Bài 3: Bé hãy đếm và viết số tương ứng vào ô trống:

		
<input type="text"/>	<input type="text"/>	<input type="text"/>