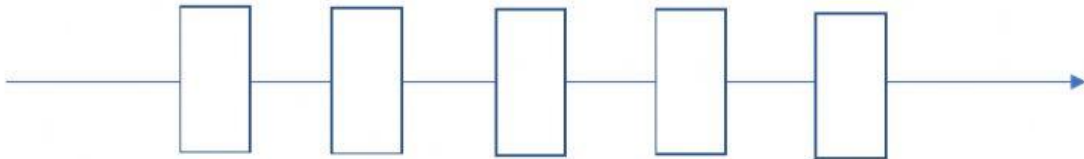


Les fractions : je place les fractions sur une droite.


- I. **Place** les fractions dans l'ordre croissant. Ce sont des fractions d'1 même objet (appelé 1 unité).

$$\frac{3}{4}; \frac{1}{2}; \frac{3}{8}; \frac{10}{2}; \frac{7}{4}$$


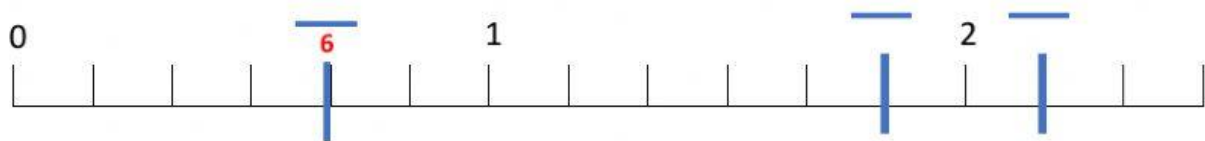


- II. **Place** les fractions en respectant la graduation de chaque droite.

$$\frac{3}{4}; \frac{1}{2}; \frac{3}{8}; \frac{10}{2}; \frac{7}{4}$$



- III. **Écris** les fractions sur les graduations de chaque droite.



IV. **Complète** les cases. En haut de la droite, écris en nombre fractionnaire. En bas de la droite, écris en fraction impropre.

