



**FORMACION CREATIVA
COLEGIO PARTICULAR
CICLO ESCOLAR 2021-2022**



Asignatura: Tecnología

Sección: Secundaria

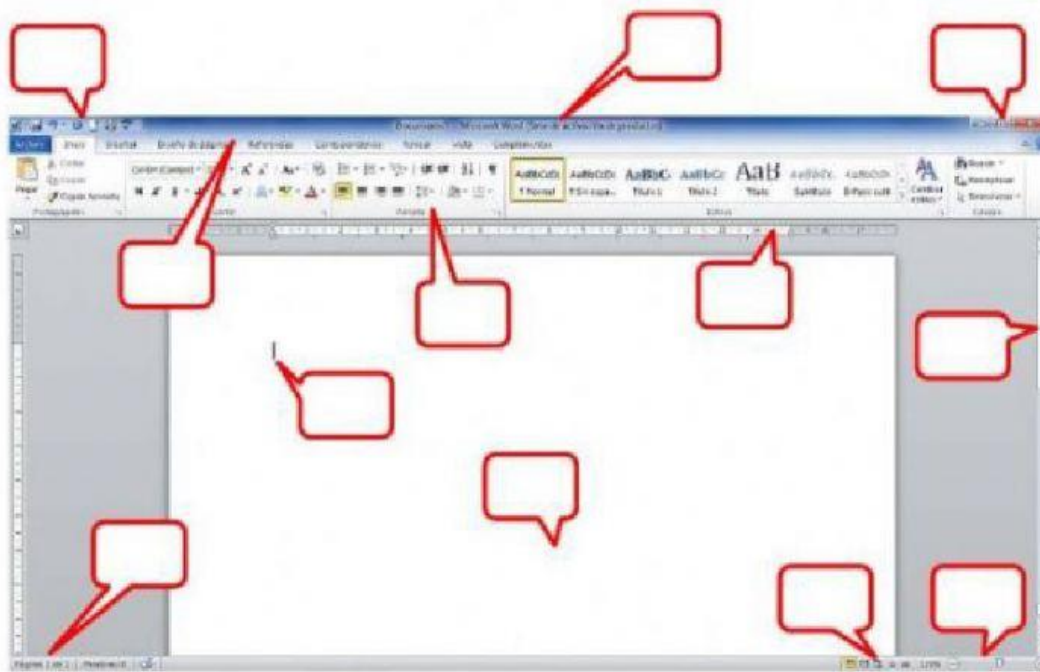
Profesor Jaime Callejas Lugo

Nombre del Alumn@ _____

Fecha: _____

Grado: _____

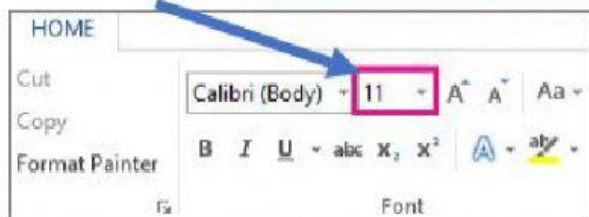
1. Escribe el numero correspondiente al nombre de cada elemento de la ventana de Word.
12 puntos.



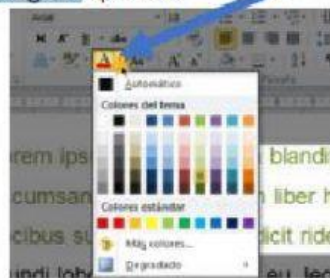
- 1** Barra de Título (Muestra el nombre del Documento)
- 2** Barra de Herramientas de Acceso Rápido.
- 3** Botones de Control (Minimizar, Maximizar, Cerrar)
- 4** Fichas o Pestañas (Ficha Inicio, Insertar, Diseño de Página, Referencias, etc.)
- 5** Grupo de Botones (Portapapeles, Fuentes, Párrafo)
- 6** Regla (Horizontal y Vertical)
- 7** Hoja de Trabajo (área donde se inserta el texto, imágenes, formas, etc.)
- 8** Cursor (Marcador de inicio del texto)
- 9** Barra de desplazamiento (Vertical y Horizontal)
- 10** Barra de Estado
- 11** Botones de Vista (Formas de visualizar un documento)
- 12** Zoom (Aumenta o reduce el tamaño de visualización del documento)



3. Selecciona el nombre del elemento señalado en cada imagen. 3 puntos.



- a) Tamaño de fuente
- b) Word
- c) Fuente



- a) fuente
- b) Tamaño de fuente
- c) Color de fuente



- a) Negrita, Cursiva y seleccionar
- b) Negrita, Color, Subrayado
- c) Negrita, Cursiva y Subrayado

1) ¿A que Ficha ingresamos para dar Agregar una Imagen?.

FORMATO

INSERTAR

INICIO

DISEÑO

2) ¿Cuál de las opciones es una Herramienta Párrafo?

- a) Viñeta
- b) Color
- c) Negrita
- d) Tamaño

3) ¿Cuál de las opciones es la Herramienta Párrafo Interlineado?

a)



b)



c)



d)





5) ¿Cómo se llama la parte del Programa donde se encuentra, Fuente, Párrafo, Portapapeles, etc?

- a) Cinta de Opciones b) Grupo c) Ficha d) Herramientas

6) Relacione con una Línea, las Funciones de las Herramientas

- | | |
|--|---------------------|
| a)  | • Aumentar Sangría |
| b)  | • Disminuir Sangría |
| c)  | • Numeración |
| d)  | • Viñeta |

7) ¿Cuál de las opciones es un Herramienta Fuente?

- a) Viñeta
b) Numeración
c) Negrita
d) Insertar

8) Coloque el Nombre que le pertenece al tipo de Alineación:

	<input type="text"/>	<input type="button" value="Alin. Derecha"/>	<input type="button" value="Alin. Izquierda"/>
	<input type="text"/>		
	<input type="text"/>	<input type="button" value="Centrar Alin."/>	<input type="button" value="Justificar"/>
	<input type="text"/>		