

EVALUACIÓN DEL PRIMER PARCIAL DEL PRIMER QUIMESTRE


Nombre: _____

Lee y resuelve las siguientes actividades:


1. Observa el elemento que está dentro de cada círculo y arrastra los objetos para formar conjuntos. (1 punto: 0.10 cada acierto)



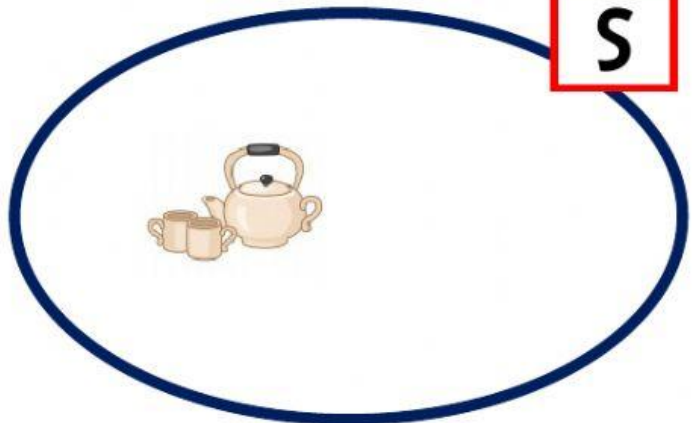
T













R













S



2.-Establece la relación de correspondencia al unir los elementos del conjunto de salida con los elementos del conjunto de llegada. (1 punto: 0.20 cada acierto)

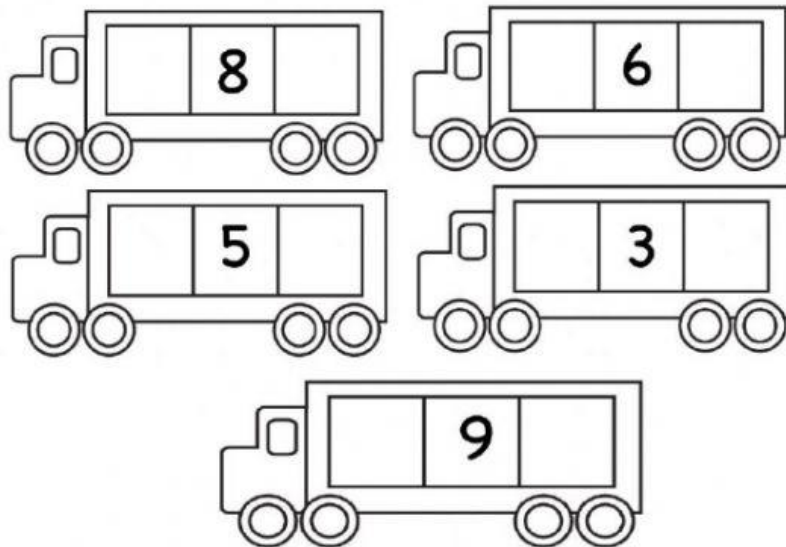
B	    	C
	    	

3.-Cuenta y traza el número según corresponda. (1 punto: 0.10 cada acierto)

4.- Escribe los números que van antes y después según el número dado.

(1 punto: 0.10 cada acierto)




5.- Observa y escribe (V) si es verdadero o (F) si es falsa la comparación de cantidades.

(1 punto: 0.25 cada acierto)

8	<	10	→	<input type="radio"/>
4	<	3	→	<input type="radio"/>
5	>	5	→	<input type="radio"/>
6	<	9	→	<input type="radio"/>

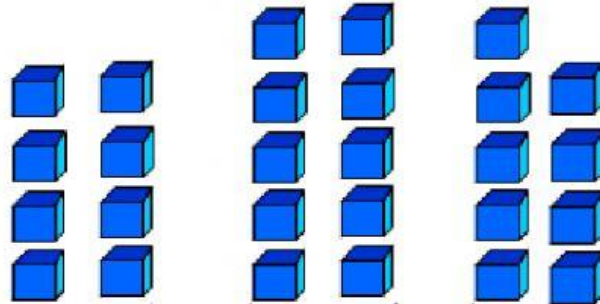
6.- Cuenta y arrastra al cuadrado amarillo el grupo que forma una decena.

(1 punto)



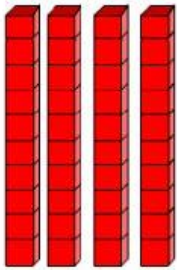
7.- Cuenta y arrastra al cuadrado anaranjado el grupo que forma una decena.

(1 punto)

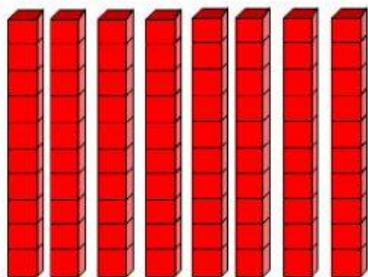


8. Cuenta y une las decenas con su representación:

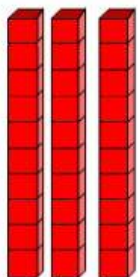
(1 punto: 0.25 cada acierto)



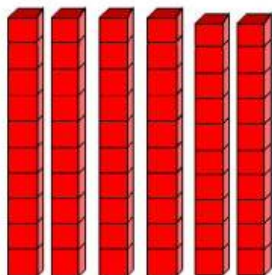
80 unidades



3 decenas



40 unidades



6 decenas

9.- Escucha las siguientes decenas completas y escríbelas.

(1 punto: 0.25 cada acierto)



10.- Arrastra el número ordinal en el lugar que corresponda.

(1 punto: 0.10 cada acierto)



--	--	--	--	--	--	--	--	--	--	--

4º	7º	9º	1º	3º	5º	2º	6º	10º	8º
----	----	----	----	----	----	----	----	-----	----