

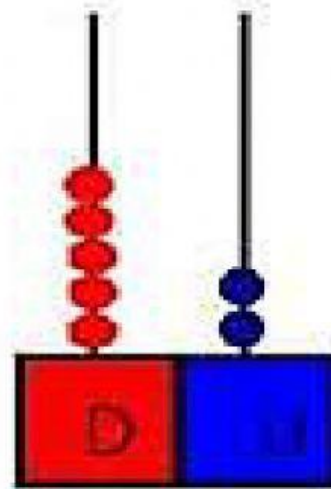
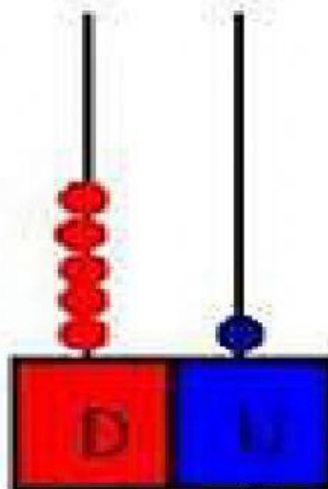
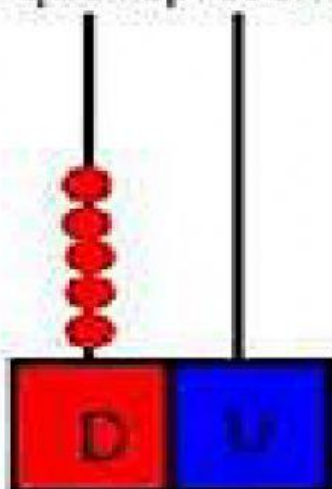


COMPLETA EL CUADRO ARRASTRANDO CADA DATO A SU LUGAR CORRESPONDIENTE.

50	
	CINCUENTA Y UNO
	CINCUENTA Y DOS
53	

51	CINCUENTA Y TRES
54	CINCUENTA
52	CINCUENTA Y CUATRO

cuenta las unidades y decenas y escribe el numero que representa



\_\_\_\_\_

\_\_\_\_\_

\_\_\_\_\_