





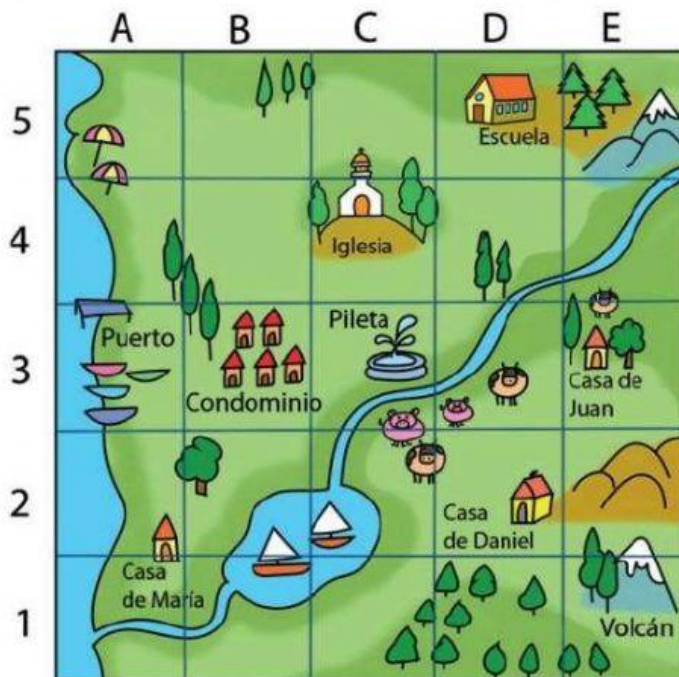
LOCALIZACIÓN EN UNA CUADRÍCULA

1. Dibuja los siguientes objetos en las coordenadas que se indican.

	A	B	C	D	E	F
4						
3						
2						
1						

- a.  ► B3
- b.  ► C4
- c.  ► E1
- d.  ► A2

2. Observa la cuadrícula y escribe la ubicación de cada lugar.



- a. Escuela ►
- b. Volcán ►
- c. Iglesia ►
- d. Condominio ►
- e. Puerto ►
- f. Pileta ►