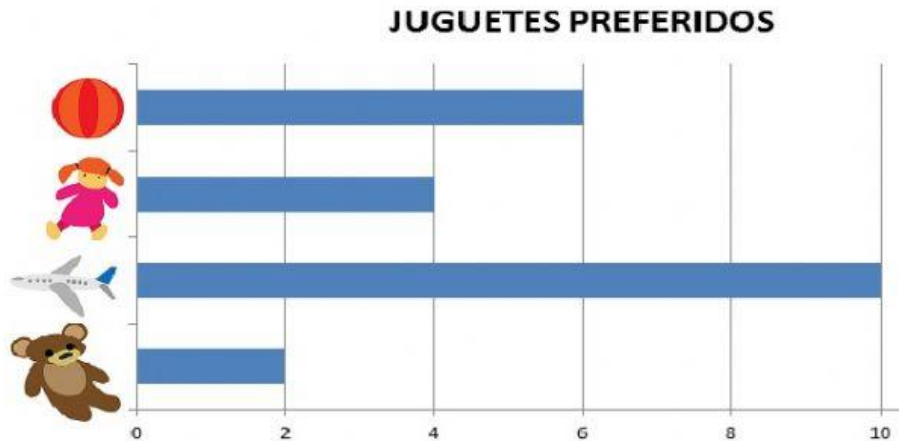


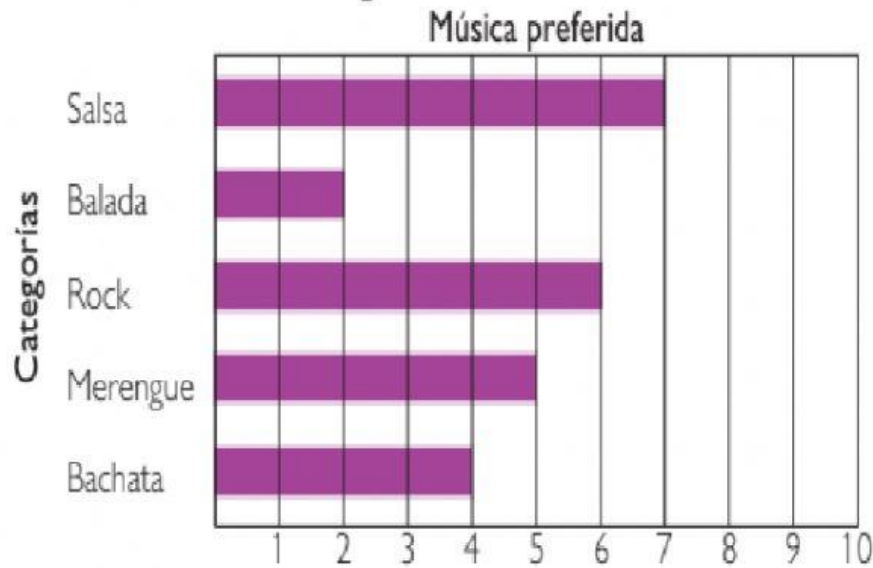
GRÁFICO DE BARRAS HORIZONTALES

1. Observa el siguiente diagrama de barras, el cual nos indica los juguetes preferidos en una guardería. Marca con una "X" la alternativa correcta.



- El diagrama tiene barras de forma:
 - a. Secante
 - b. Horizontal
 - c. Perpendicular
 - d. Vertical
- ¿Cuál fue el juguete preferido en la guardería?
 - a. Oso
 - b. Muñeca
 - c. Avión
 - d. Balón
- ¿Cuántos niños fueron encuestados en la guardería?
 - a. 22
 - b. 18
 - c. 20
 - d. 21
- Si sumamos la cantidad de balones y la cantidad de muñecas, nos darán la misma cantidad de:
 - a. Osos
 - b. Muñecas
 - c. Aviones
 - d. Balones

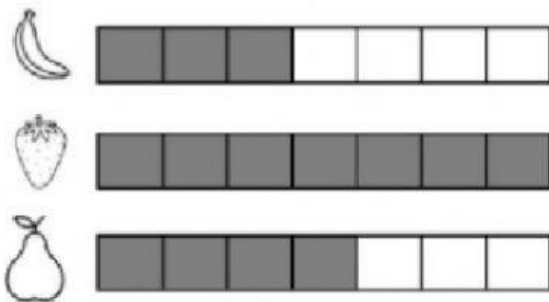
2. **Observa** la información del gráfico de barras horizontales.



- Según los datos del gráfico, **completa** la siguiente información.

- Tipo de música menos preferida. _____
- Tipo de música de mayor preferencia. _____
- Número de personas entrevistadas. _____

3. **Observa** el diagrama de barras. **completa** la tabla y responde...



FRUTA PREFERIDA	CANTIDAD DE NIÑOS
<input type="text"/>	<input type="text"/>
<input type="text"/>	<input type="text"/>
<input type="text"/>	<input type="text"/>

1. ¿Cuál es la fruta preferida de los niños?
2. ¿Cuál es la fruta menos preferida de los niños?
3. ¿A cuántos niños les preguntaron?