
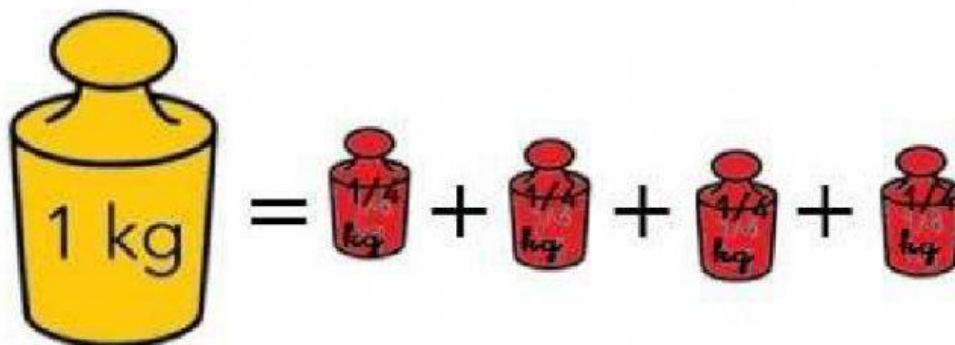
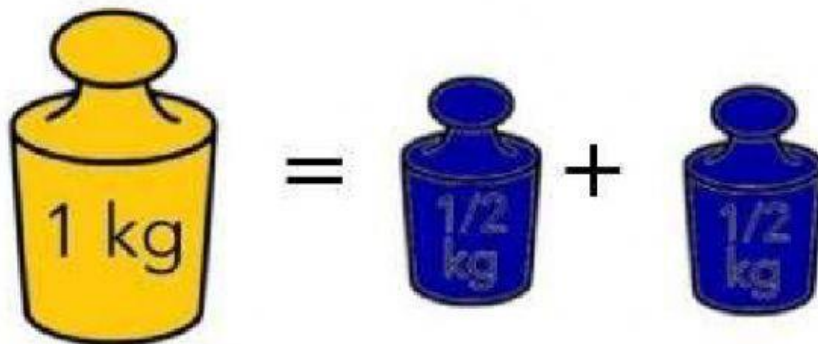


RESUMEN DEL VÍDEO:



Completa las igualdades:

1 kilo =

4 medios kilo =

Medio kilo =

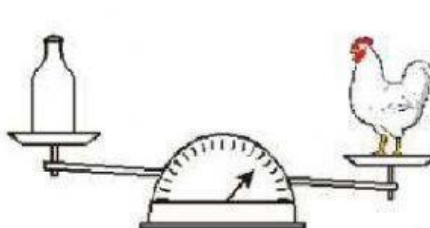
2 medios kilos =



Vamos a practicar.

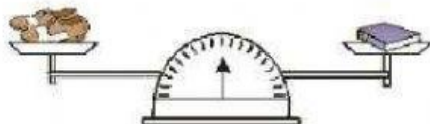
2. Observa la balanza y completa con la palabra más, menos o igual.



La  tiene _____ peso que la .





La  tiene _____ peso que el .

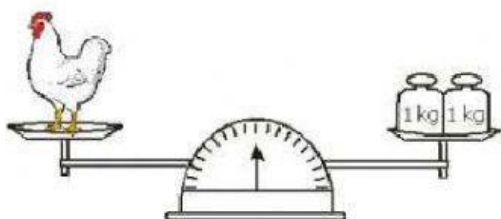


Los  tienen _____ peso que el .

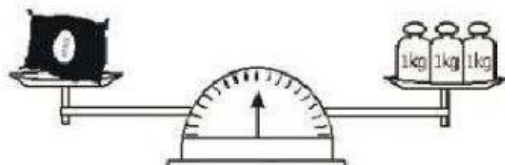


El  tiene _____ peso que la .

3. Observa la balanza y escribe el peso de cada objeto.



Peso de la gallina = ____ kg



Peso de la saco de arroz = ____ kg