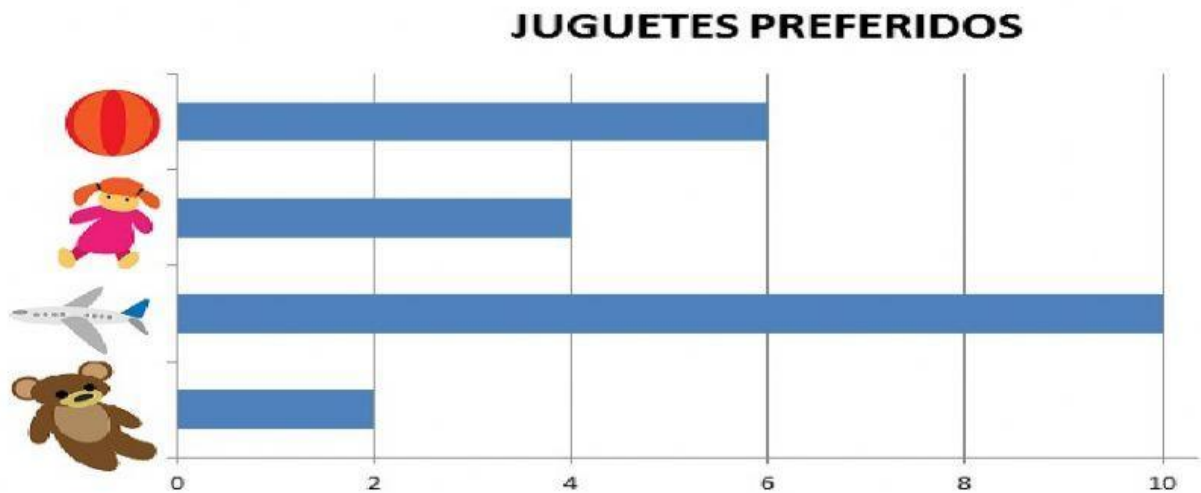


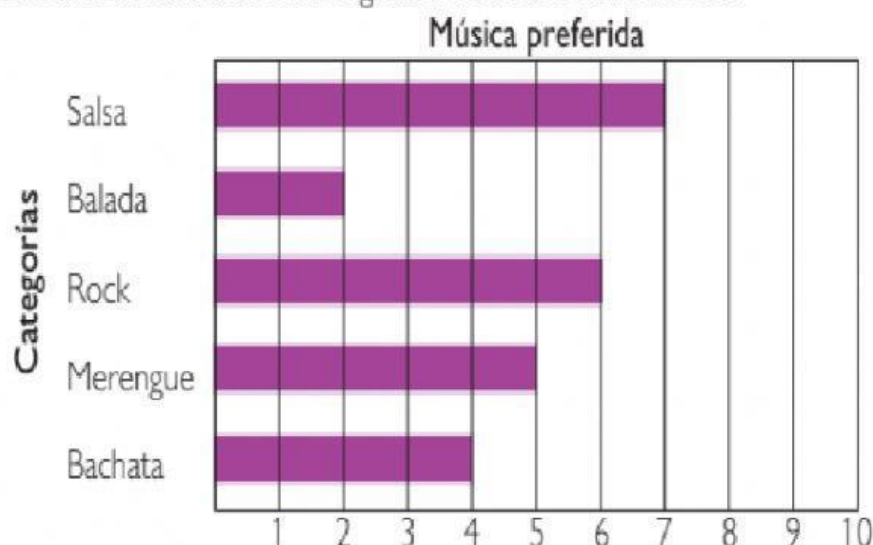
# GRÁFICO DE BARRAS HORIZONTALES

1. Observa el siguiente diagrama de barras el cual nos indica los juguetes preferidos en una guardería. Marca con un "X" la alternativa correcta.



- El diagrama de barras anterior sus barras están de forma
  - a. secante
  - b. horizontal
  - c. perpendicular
  - d. vertical
- Cual fue el juguete preferido en la guardería?
  - a. oso
  - b. muñeca
  - c. avion
  - d. balon
- cuantos niños fueron encuestados en la guarderia?
  - a. 22
  - b. 18
  - c. 20
  - d. 21
- si sumamos la cantidad de balones y la cantidad de muñecas nos dará la misma cantidad de :
  - a. osos
  - b. muñecas
  - c. aviones
  - d. balones

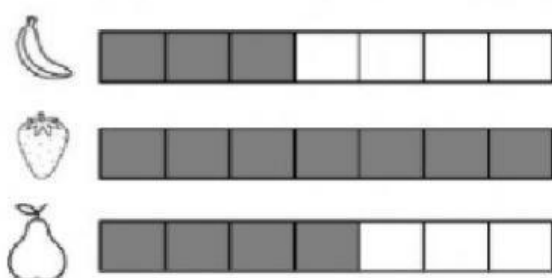
2 **Observa** la información del gráfico de barras horizontales.



■ Según los datos del gráfico, **completa** la siguiente información.

- Tipo de música menos preferida. \_\_\_\_\_
- Tipo de música de mayor preferencia. \_\_\_\_\_
- Número de personas entrevistadas. \_\_\_\_\_

3. **Observa** el diagrama de barras. completa la tabla y responde...



FRUTA PREFERIDA	CANTIDAD DE NIÑOS
<input type="text"/>	<input type="text"/>
<input type="text"/>	<input type="text"/>
<input type="text"/>	<input type="text"/>

1. ¿Cuál es la fruta preferida de los niños?
2. ¿Cuál es la fruta menos preferida de los niños?
3. ¿A cuántos niños le preguntaron?