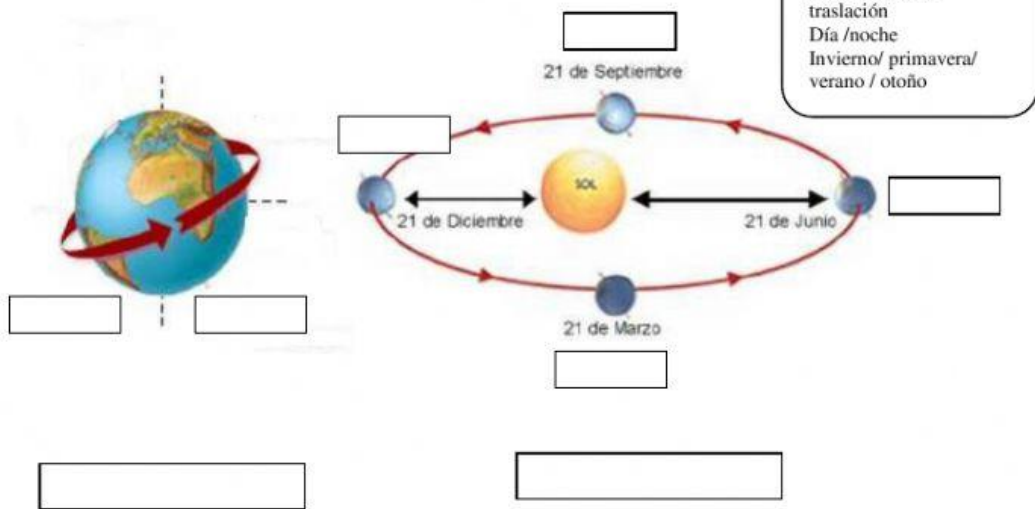




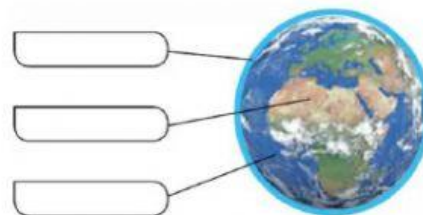
Examen sociales

1. ¿ Qué movimiento es y que produce? Completa



2. Escribe las capas de la tierra donde corresponda:

hidrosfera
geosfera
atmósfera



3. Señala:



Polo sur

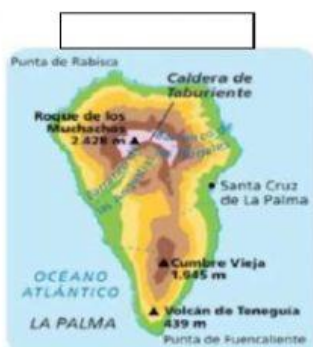
Ecuador

Polo norte

Eje terrestre

4. Observa el mapa, y según la información que nos dan, escribe de que tipo son:

Político Físico Temático



5. Arrastra el nombre de cada continente y océano donde corresponda:

- Océano Glacial Antártico
- Océano Glacial Ártico
- Océano Pacífico
- Océano Índico
- Océano Atlántico



- América
- África
- Antártida
- Oceanía
- Asia
- Europa

6. Une los instrumentos de orientación con sus nombres:



G.P.S.



Callejero



Brújula



Mapa

7. Completa la rosa de los vientos escribiendo los puntos cardinales en su sitio:

