



SDLB TUNARUNGU PANGUDI LUHUR

Jl. Pesanggrahan 125, Kembangan,
Jakarta Barat 11610, Telp. (021) 5804223

Hari, Tanggal : Jumat, 5 November 2021

Kelas : D.1B

Nama :

LAT UM PKN

Pilihlah huruf A, B, atau C yang merupakan jawaban benar!

1. Berikut adalah kegiatan yang dilakukan pagi hari adalah

A.



B.



C.



2. Hidup yang disiplin adalah hidup yang

A. berantakan

B. tidak rapi

C. teratur

3. Sikap disiplin harus dimulai dari

A. diri sendiri

B. orangtua

C. teman

4. Berikut gambar yang menunjukkan sikap siswa yang disiplin adalah

A.



B.



C.



5. Ayah bekerja keras mencari nafkah, maka kita bekerja keras dalam

A. bermain

B. belajar

C. bercanda

6. Membiasakan diri bangun pagi termasuk disiplin

A. belajar

B. kebersihan

C. waktu


7. Jika ke sekolah sebaiknya memakai pakaian

A. rumah

B. seragam

C. mahal

8. Perhatikan gambar berikut!



Lampu lalu lintas mempunyai ... warna.

A. 2

B. 3

C. 4

9. Kita harus berhenti berkendara saat lampu lalu lintas berwarna

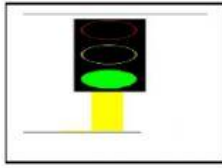
A. kuning

B. merah

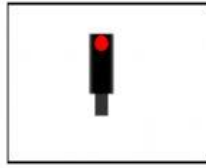
C. hijau

10. Berikut gambar lampu lalu lintas yang menunjukkan **boleh berjalan** lagi adalah

A.



B.



C.



11. Kita harus berhati-hati berkendara saat lampu lalu lintas berwarna

A. merah

B. kuning

C. hijau

12. Melakukan pekerjaan dengan sungguh-sungguh dinamakan

A. disiplin

B. bekerja keras

C. pantang menyerah

13. Merapikan tempat tidur ialah tata tertib yang diterapkan di

A. rumah

B. sekolah

C. masyarakat

14. Membersihkan kelas dengan bergotong royong merupakan contoh kebersamaan di

A. rumah

B. masyarakat

C. sekolah

15. Seorang pengendara motor harus mempunyai

A. KK (Kartu Keluarga)

B. SIM (Surat Izin Mengemudi)

C. KTP (Kartu Tanda Penduduk)

16. Contoh perbuatan tidak disiplin adalah

A. bermain bola di lapangan

B. bermain bola di dalam kelas

C. bermain bola di halaman

17. Dengan adanya aturan yang diterapkan dalam kehidupan sehari-hari, maka kita harus bersikap

A. suka-suka

B. disiplin

C. semaunya

18. Ketika kita berjalan, sebaiknya kita berjalan ... jalan.

A. atas

B. pinggir

C. tengah

19. Ketika kita sedang di jalan, sebaiknya kita selalu mematuhi tata tertib

A. lalu lintas

B. sekolah

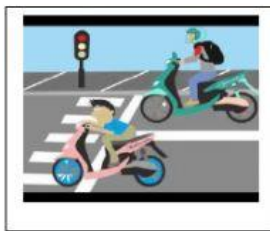
C. rumah

20. Berikut gambar yang menunjukkan **melanggar** lalu lintas adalah

A.



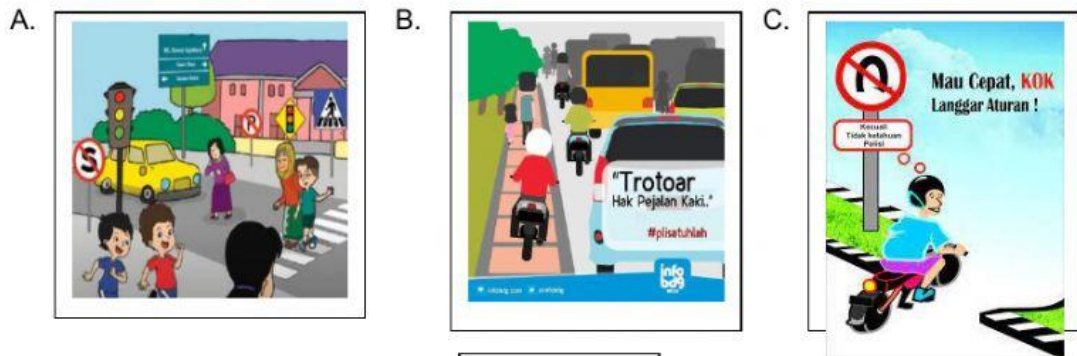
B.



C.



21. Berikut gambar yang menunjukkan orang yang **tertib** berlalu lintas adalah



22. Setiap anggota keluarga harus aturan di rumah.

23. Ketika pagi hari banyak orang yang bersiap untuk

24. Para siswa pagi hari bersiap ke

25. Setelah bangun tidur, sebaiknya kita

26. Bel sekolah berbunyi pada pagi hari. Guru meminta siswa untuk segera

27. Kegiatan makan pada pagi hari disebut juga

28. Sebelum berangkat sekolah, Rumi kepada orangtuanya.

29. Perhatikan gambar berikut!



Kegiatan tersebut adalah

30. Perhatikan gambar berikut!



Kegiatan tersebut adalah

Lengkapilah kata berikut dengan tepat!

Bhinneka tunggal ika

menjenguk

rantai

Garuda
Pancasila

padi dan kapas

31. Perhatikan gambar berikut!




Lambang negara Indonesia adalah

32. Pita garuda Pancasila bertuliskan

33. Simbol sila – 2 dari Pancasila adalah

34. Perhatikan gambar berikut!



teman yang sakit, adalah
contoh sikap kemanusiaan.

35. Sila ke – 5 Pancasila dilambangkan dengan

Persatuan Indonesia



Keadilan sosial bagi seluruh rakyat Indonesia



Ketuhanan Yang Maha Esa



Kerakyatan yang dipimpin oleh hikmat kebijaksanaan dalam permusyawaratan perwakilan



Kemanusiaan yang adil dan beradab



Pilihlah jawaban berikut dengan benar!

36. Perhatikan gambar berikut!



Gambar tersebut adalah menunjukkan negara

37. Bersatu artinya bergabung menjadi

38. Sikap bersatu ditunjukkan dengan cara

teman.

39. Kita tidak boleh bekerja sama ketika mengerjakan

40. Salma gemar menggambar.

Adrien gemar bermain sepeda.

Mereka harus saling

kegemaran masing-masing.

41. Perhatikan gambar berikut!



Walaupun berbeda-beda namun tetap

42. Jika ada teman yang mengalami kesulitan, sebaiknya kita

43. Jika ada teman yang suka mencela, sikap kita sebaiknya

44. Perhatikan gambar berikut!



Gambar tersebut merupakan contoh bersatu dalam

45. Tugas yang dilakukan bersama akan terasa lebih

46. Jika ingin menang dalam pertandingan, semua anggota kelompok harus

47. Kita dengan teman yang berbeda agama harus saling

48. Salma berasal dari Jawa Tengah dan Falah berasal di Jakarta.

Sikap mereka sebaiknya

49. Hidup rukun dan saling menghormati sesuai dengan Pancasila sila

50. Semboyan "bersatu kita teguh, bercerai kita runtuh mengajarkan sikap