

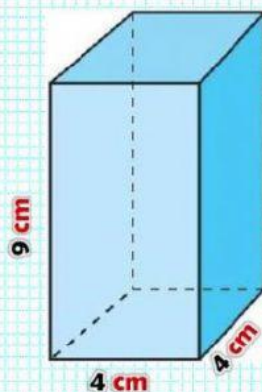


RETO DEL DÍA

1. Calcular el área de los siguientes prismas

Calcula el área lateral y total del prisma.

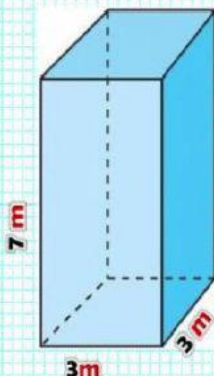
A)



El área es :

Calcula el área lateral y total del prisma cuadrangular.

B)

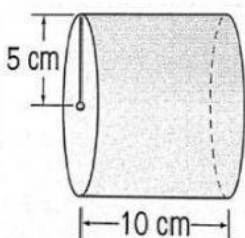


El área es:



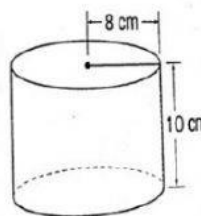
2. Calcular el área de los siguientes cilindro. $\pi = 3,14$

A)



El área es:

B)



El área es: