



Monedas y billetes

Competencia: : Resuelve problemas de cantidad.

1.- Cuenta las monedas y billetes, después coloca el resultado en el recuadro



Tengo S/.



Tengo S/.




Tengo S/.




Tengo S/.

2.- Ayudemos a Mariana en la pasteleria:






S/20




S/10



S/16




S/40



S/30



S/25

- Un cliente desea comprar el siguiente producto  y cancela con S/50. ¿Cuál será su vuelto?



- Una señora ha comprado los siguientes productos:   

¿Cuál es el monto que debería de pagar?

