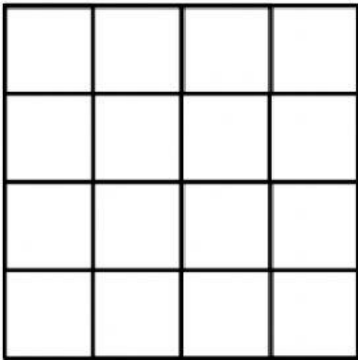
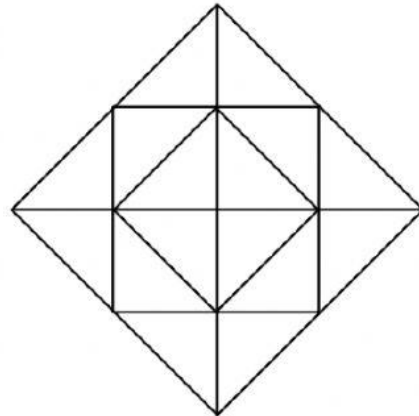


GEOMETRI

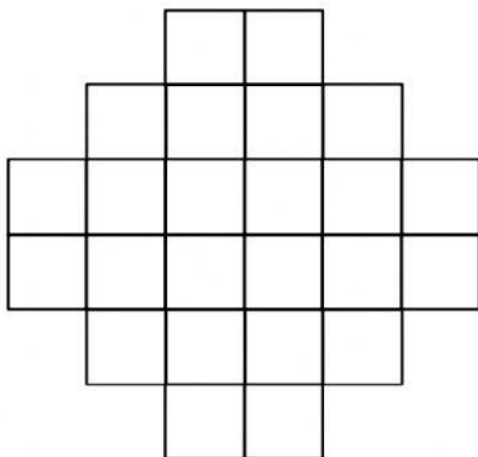
- 1.** Banyak persegi pada gambar di bawah ini adalah ...



- 3.** Banyak segitiga pada gambar berikut adalah ...



- 2.** Banyak persegi pada gambar di bawah ini adalah ...



- 4.** Banyak segitiga pada gambar berikut adalah ...

