





1. Cuenta con atención y escribe el número al que llegas. El triángulo vale 10 y el rectángulo vale 1.

12		72
7		
40		
4		
19		

2. Completa las tablas:

	3	2	5	7	1	6	8	0	4	9
+2	5									

	3	2	5	7	1	6	8	0	4	9
+10	13									

	3	2	5	7	1	6	8	0	4	9
+9	12									

	7	5	9	2	6	3	8	10	4	1
+3	10									

	8	5	7	10	6	4	1	2	3	9
+4	12									