

QUIZ DE ESTADÍSTICA

GRADO 1º

1. Lee cada suceso y completa con **posible**, **seguro** o **imposible**:

- Sacar un 2 en el dado. _____
- Que mañana sea viernes. _____
- Que un día tenga 50 horas. _____
- Jugar fútbol con una pelota cuadrada. _____
- Que el año siguiente sea 2022. _____

2. Observa la siguiente información y relaciona cada suceso:



- Sacar un número mayor que 6.
- Sacar el número 3.
- Sacar una bolita.

Seguro


Posible

Imposible

3. Lee cada suceso y responde sí o no.

Si lanzo este dado al aire:

Responde si o no






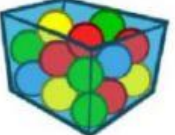

¿Es posible que salga el número 4?

¿Es seguro que salga el número 8?

¿Es imposible que salga el número 2?

¿Es posible que salga un número del 1 al 6?

4. Escoge la probabilidad correcta para cada situación:

<p>Sacar una bola amarilla</p>  <div> <input type="checkbox"/> Seguro <input type="checkbox"/> Posible <input type="checkbox"/> Imposible </div>	<p>Sacar una bola verde</p>  <div> <input type="checkbox"/> Seguro <input type="checkbox"/> Posible <input type="checkbox"/> Imposible </div>
<p>Sacar una bola roja</p>  <div> <input type="checkbox"/> Seguro <input type="checkbox"/> Posible <input type="checkbox"/> Imposible </div>	<p>Sacar una bola negra</p>  <div> <input type="checkbox"/> Seguro <input type="checkbox"/> Posible <input type="checkbox"/> Imposible </div>
<p>Sacar una bola morada</p>  <div> <input type="checkbox"/> Seguro <input type="checkbox"/> Posible <input type="checkbox"/> Imposible </div>	<p>Sacar una bola amarilla</p>  <div> <input type="checkbox"/> Seguro <input type="checkbox"/> Posible <input type="checkbox"/> Imposible </div>
<p>Sacar una bola roja</p>  <div> <input type="checkbox"/> Seguro <input type="checkbox"/> Posible <input type="checkbox"/> Imposible </div>	<p>Sacar una bola azul</p>  <div> <input type="checkbox"/> Seguro <input type="checkbox"/> Posible <input type="checkbox"/> Imposible </div>

BENDICIONES

