

MATEMÁTICAS REPASO



1. ¿Cuántas botellas hay? _____ botellas




2. ¿Cuántas canicas hay? _____ canicas.



3. María tenía 20 canicas después ganó 5 más. ¿ Cuántas canicas tiene ahora ?



4. Escribe cuánto dinero hay en cada caso.

5. completa la serie con los números que faltan.

19	20			23		25			28
----	----	--	--	----	--	----	--	--	----

6. Resuelve las siguientes preguntas

Si has contado hasta el número 27, ¿cuáles te faltan para llegar al 30?

- 24 y 25
- 12, 14, 16
- 10 y 20
- 28 y 29

¿Cómo se escribe con letra el número 23?

- Veinte y tres.
- Veintitres.
- Tres y veinte.
- Veintetres.

7. Sofía tiene 8 pesos y Luis tiene 5 pesos. ¿Cuánto dinero tienen entre los dos?



_____ pesos.

8. Si a una niña le regalaron 7 moños, luego 5 y finalmente otros 4, ¿cuántos moños tiene?

