

FIGURAS GEOMÉTRICAS PLANAS

1. Coloca sus nombres donde corresponda.






rombo

cuadrado

triángulo

círculo

rectángulo

2. Une con flechas según su forma.



círculo



triángulo



rombo



cuadrado



rectángulo

